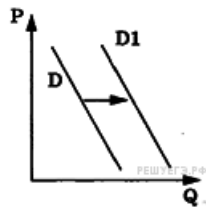


Графики спроса

1.

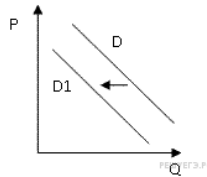
На рисунке отражены изменения спроса на легковые автомобили на соответствующем рынке: линия спроса D переместилась в новое положение D_1 (P — цена товара, Q — количество товара). Это перемещение связано, в первую очередь, с



- 1) совершенствованием технологии производства автомобилей
- 2) уменьшением издержек производителей автомобилей
- 3) увеличением объёма услуг общественного транспорта
- 4) увеличением доходов населения
- 5) резким снижением цен на бензин

2.

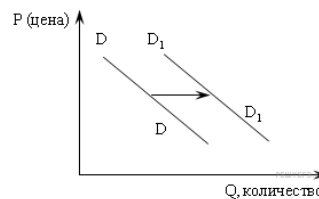
На рисунке отражена ситуация на рынке стационарных компьютеров: линия спроса D переместилась в новое положение D_1 (P — цена товара, Q — объём спроса товара). Это перемещение может быть связано, прежде всего, с (со)



- 1) ростом числа продавцов компьютеров на рынке
- 2) переходом многих пользователей на ноутбуки и нетбуки
- 3) снижением пошлин на ввоз комплектующих для стационарных компьютеров
- 4) падением доходов потребителей
- 5) существенным удешевлением системных блоков и мониторов

3.

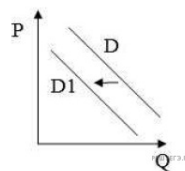
На графике изображено изменение спроса на отечественном автомобильном рынке: линия спроса D переместилась в новое положение D_1 (P — цена автомобиля, Q — объём спроса на отечественные машины). Это перемещение может быть связано в первую очередь с



- 1) модернизацией автомобильной отрасли в стране
- 2) увеличением транспортного налога
- 3) увеличением доходов населения
- 4) экономическим кризисом
- 5) резким повышением цен на импортные автомобили

4.

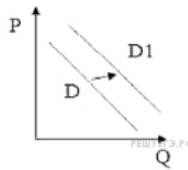
На рисунке отражена ситуация на рынке стационарных компьютеров: линия спроса D переместилась в новое положение D_1 (P — цена товара, Q — объём спроса товара). Это перемещение может быть связано прежде всего с (со)



- 1) существенным удешевлением системных блоков и мониторов
- 2) широким распространением на рынке планшетных компьютеров, нетбуков, ноутбуков
- 3) резким снижением цен на рынке планшетных компьютеров, нетбуков, ноутбуков
- 4) увеличением количества банковских филиалов и офисов компаний
- 5) снижением пошлин на ввоз комплектующих для стационарных компьютеров

5.

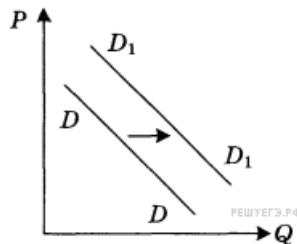
На рисунке отражена ситуация на рынке одежды этнического стиля: линия спроса D переместилась в новое положение D_1 (P — цена товара, Q — объем спроса товара). Это перемещение может быть связано прежде всего с (со)



- 1) рекламой одежды европейских модельеров
- 2) снижением пошлин на ввоз импортных тканей
- 3) снижением потребительских доходов
- 4) тем, что в текущем сезоне в моде экзотическая одежда
- 5) повышением доходов потребителей

6.

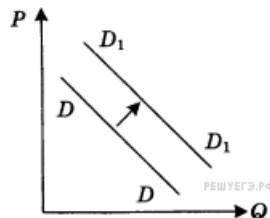
На графике отражена ситуация на рынке бытовой химии: линия спроса D переместилась в новое положение D_1 (P — цена товара, Q — объем спроса товара). Какие из перечисленных факторов могут вызвать такое изменение? Запишите цифры, под которыми они указаны.



- 1) расширение числа производителей бытовой химии
- 2) заселение многоэтажных домов новых микрорайонов
- 3) технические нововведения на предприятиях бытовой химии
- 4) увеличение налогов, уплачиваемых производителями
- 5) реклама новой продукции предприятий бытовой химии

7.

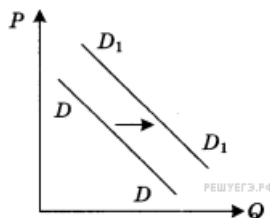
На графике отражена ситуация на рынке сельскохозяйственной техники: линия спроса D переместилась в новое положение D_1 (P — цена товара, Q — объем спроса товара). Какие из перечисленных факторов могут вызвать такое изменение? Запишите цифры, под которыми они указаны.



- 1) увеличение количества агропромышленных объединений
- 2) активная реклама сельскохозяйственной техники
- 3) концентрация производства на крупных предприятиях
- 4) вступление экономики в фазу подъема
- 5) рост ставки налога на прибыль

8.

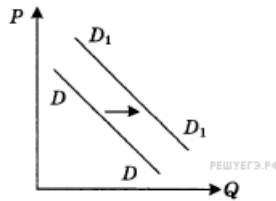
На графике отражена ситуация на рынке изделий из текстиля (постельного белья, махровых полотенец и др.): линия спроса D переместилась в новое положение D_1 (P — цена товара, Q — объем спроса товара). Какие из перечисленных факторов могут вызвать такое изменение? Запишите цифры, под которыми они указаны.



- 1) расширение гостиничного бизнеса
- 2) появление новых видов искусственных тканей
- 3) увеличение числа производителей домашнего текстиля
- 4) рост налогов с производителей текстильной продукции
- 5) рост доходов потребителей текстильных изделий

9.

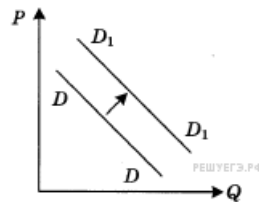
На графике отражена ситуация на рынке бытовой химии: линия спроса D переместилась в новое положение D_1 (P — цена товара, Q — объем спроса товара). Какие из перечисленных факторов могут вызвать такое изменение? Запишите цифры, под которыми они указаны.



- 1) расширение числа производителей бытовой химии
- 2) заселение многоэтажных домов новых микрорайонов
- 3) технические нововведения на предприятиях бытовой химии
- 4) увеличение налогов, уплачиваемых производителями
- 5) реклама новой продукции предприятий бытовой химии

10.

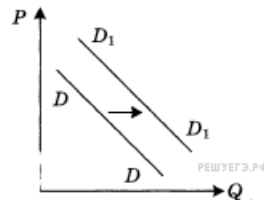
На графике отражена ситуация на рынке сельскохозяйственной техники: линия спроса D переместилась в новое положение D_1 (P — цена товара, Q — объем спроса товара). Какие из перечисленных факторов могут вызвать такое изменение? Запишите цифры, под которыми они указаны.



- 1) расширение посевных площадей
- 2) выделение дотаций фирмам-производителям сельскохозяйственной техники
- 3) концентрация производства на крупных предприятиях
- 4) вступление экономики в фазу подъема
- 5) изменение ставки налога на прибыль

11.

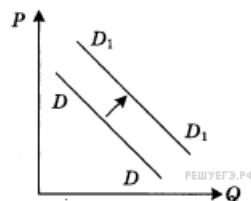
На графике отражена ситуация на рынке изделий из текстиля (постельного белья, махровых полотенец и др.): линия спроса D переместилась в новое положение D_1 (P — цена товара, Q — объем спроса товара). Какие из перечисленных факторов могут вызвать такое изменение? Запишите цифры, под которыми они указаны.



- 1) расширение гостиничного бизнеса
- 2) появление новых видов искусственных тканей
- 3) увеличение числа производителей домашнего текстиля
- 4) рост налогов с производителей текстильной продукции
- 5) рост доходов потребителей текстильных изделий

12.

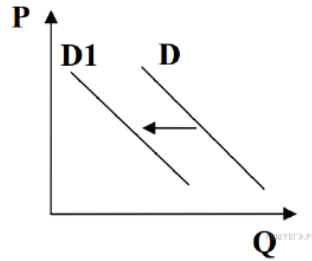
На графике отражена ситуация на рынке яхт и яхтенного оборудования: линия спроса D переместилась в новое положение D_1 (P — цена товара, Q — объем спроса товара). Какие из перечисленных факторов могут вызвать такое изменение? Запишите цифры, под которыми они указаны.



- 1) появление новых производителей яхт и яхтенного оборудования
- 2) снижение пошлин на ввоз импортных яхт
- 3) удорожание материалов для производства яхт
- 4) рост доходов покупателей яхт
- 5) легкость приобретения в связи с расширением возможностей покупок яхт в Интернет-магазинах

13.

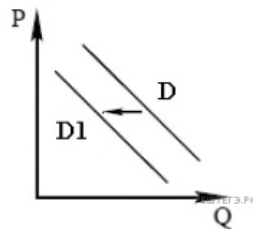
На графике отражена ситуация на рынке вторичного жилья (на графике P — цена, Q — количество). Проанализируйте изменение спроса (линия спроса D переместилась в положение D_1). Какие из перечисленных факторов могут вызвать такое изменение? Запишите цифры в порядке возрастания, под которыми они указаны.



- 1) Рост денежных доходов населения.
- 2) Сокращение количества строительных фирм.
- 3) снижение цен на покупку социального жилья.
- 4) Снижение процентов по ипотечным кредитам на приобретение жилья в новостройках.
- 5) Серия крупных журналистских расследований о махинациях на рынке вторичного жилья.

14.

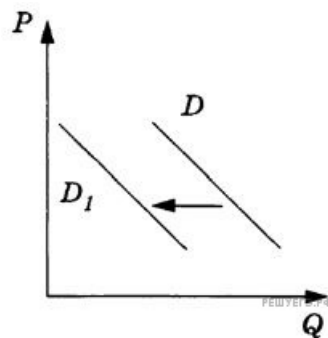
На графике показано изменение спроса на морепродукты на потребительском рынке: кривая спроса переместилась из положения D в положение D_1 (на графике P — цена товара, Q — количество товара). Какие из перечисленных факторов могут вызвать такое изменение? Запишите цифры, под которыми они указаны.



- 1) Выросли пошлины на ввоз в страну рыбной продукции.
- 2) Были обнаружены лабораторные исследования, подтвердившие благотворное влияние фосфора на работу мозга.
- 3) В результате инфляции в стране сократились доходы населения.
- 4) Увеличилось количество рыбных ферм.
- 5) Учёные опровергли результативность диеты, основанной на употреблении морепродуктов.

15.

На рисунке изображена ситуация на рынке мясных полуфабрикатов импортного производства в стране A : линия спроса D переместилась в новое положение D_1 (P — цена товара, Q — объём спроса товара). Какие из перечисленных факторов могут вызвать такое изменение? Запишите цифры, под которыми они указаны.

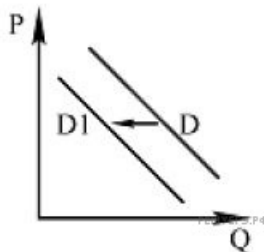


- 1) существенное улучшение санитарно-эпидемиологической обстановки в ряде государств — импортёров мясной продукции в страну A
- 2) введение льготного налогообложения на ввоз в страну A мясных полуфабрикатов иностранных производителей
- 3) распространение в СМИ сведений об ухудшении санитарно-эпидемиологической обстановки в ряде регионов мира
- 4) улучшение качества продукции пищевой промышленности страны A
- 5) введение правительством страны A квот на поставки продовольствия из государств — импортёров мясной продукции

16.

На рисунке отражена ситуация на рынке бытовых вентиляторов: линия спроса D переместилась в новое положение — $D1$ (P — цена товара, Q — количество товара). Это перемещение может быть связано прежде всего с

- 1) закрытием нескольких заводов по производству вентиляторов
- 2) распространением кондиционеров
- 3) снижением налога с продаж бытовой техники
- 4) окончанием летнего сезона
- 5) снижением расходов производителей вентиляторов на рекламу

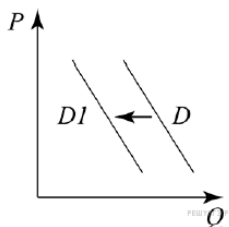


17.

На графике изображено изменение ситуации на рынке домашних тренажёров: кривая спроса переместилась из положения D в положение $D1$. (на графике P — цена товара; Q — количество товара).

Какие из перечисленных факторов могут вызвать такое изменение? Запишите цифры, под которыми они указаны.

- 1) рост числа дешёвых фитнес-центров
- 2) повышение цен на комплектующие, необходимые для ремонта, обновления и настройки тренажёров
- 3) падение доходов потребителей
- 4) активная рекламная кампания одного из производителей тренажёров
- 5) пропаганда здорового образа жизни

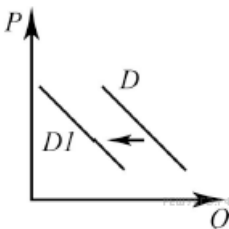


18.

На графике изображено изменение ситуации на рынке легковых автомобилей: кривая спроса переместилась из положения D в положение $D1$. (На графике P — цена товара; Q — количество товара.)

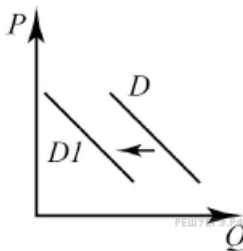
Какие из перечисленных факторов могут вызвать такое изменение? Запишите цифры, под которыми они указаны.

- 1) рост цен на бензин
- 2) сужение рынка автокредитования
- 3) повышение доходов населения
- 4) сокращение инвестиций в автомобильной отрасли
- 5) повышение пошлин на импортные комплектующие, необходимых для сборки автомобилей



19.

На графике изображено изменение ситуации на рынке легковых автомобилей (с кузовом минивэн): кривая спроса переместилась из положения D в положение $D1$ (на графике P — цена товара; Q — количество товара).

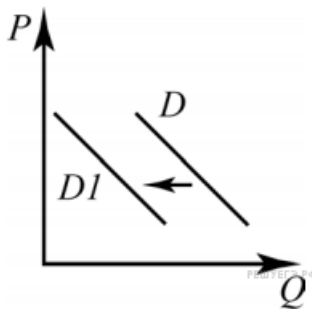


Какие из перечисленных факторов могут вызвать такое изменение? Запишите цифры, под которыми они указаны.

- 1) повышение цен на бензин
- 2) рост пошлин на минивэны
- 3) спад производства в автомобилестроительной отрасли страны
- 4) активная рекламная кампания доступных внедорожников
- 5) реализация выгодной для потребителей программы автомобильного кредитования

20.

На рисунке отражено изменение спроса на антивирусные компьютерные программы на соответствующем рынке: линия спроса D переместилась в новое положение — $D1$. (P — цена; Q — количество.) Какие из перечисленных факторов могут вызвать такое изменение? Запишите цифры, под которыми они указаны.



- 1) снижение вирусных угроз в сети Интернет
- 2) увеличение количества производителей антивирусных программ
- 3) снижение оплаты труда программистов — разработчиков антивирусных программ
- 4) предоставление налоговых льгот IT-компаниям
- 5) предоставление бесплатных антивирусных программ в комплекте с операционными системами