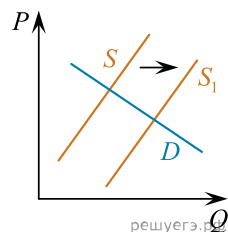


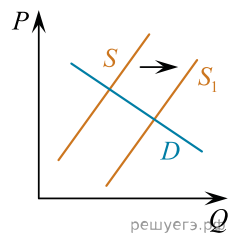
1. На графике изображено изменение ситуации на потребительском рынке легковых автомобилей в стране Z. Кривая предложения переместилась из положения S в положение S_1 при неизменном спросе D . На графике P — цена товара; Q — количество товара.

1. Как изменилась равновесная цена?
2. Что могло вызвать изменение предложения? Укажите любое одно обстоятельство (фактор) и объясните его влияние на предложение. *Объяснение должно быть дано применительно к рынку, указанному в тексте задания.*
3. Как изменятся спрос и равновесная цена на данном рынке, если вырастут доходы населения при прочих равных условиях?



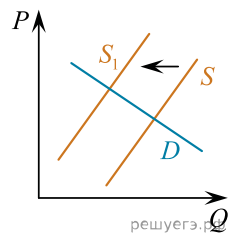
2. На графике изображено изменение ситуации на потребительском рынке роликовых коньков в стране Z. Кривая предложения переместилась из положения S в положение S_1 при неизменном спросе D . На графике P — цена товара; Q — количество товара.

1. Как изменилась равновесная цена?
2. Что могло вызвать изменение предложения? Укажите любое одно обстоятельство (фактор) и объясните его влияние на предложение. *Объяснение должно быть дано применительно к рынку, указанному в тексте задания.*
3. Как изменятся спрос и равновесная цена на данном рынке, если вырастут доходы населения при прочих равных условиях?



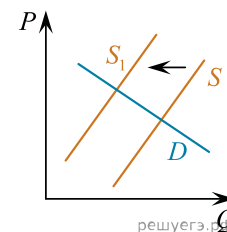
3. На графике изображено изменение ситуации на потребительском рынке рыбы и морепродуктов в стране Z. Кривая предложения переместилась из положения S в положение S_1 при неизменном спросе D . (На графике P — цена товара; Q — количество товара).

1. Как изменилась равновесная цена?
2. Что могло вызвать изменение предложения? Укажите любое одно обстоятельство (фактор) и объясните его влияние на предложение. *Объяснение должно быть дано применительно к рынку, указанному в тексте задания.*
3. Как изменятся спрос и равновесная цена на данном рынке, если вырастет число потребителей при прочих равных условиях?



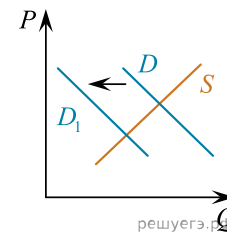
4. На графике изображено изменение ситуации на потребительском рынке цветов в стране Z. Кривая предложения переместилась из положения S в положение S_1 при неизменном спросе D . На графике P — цена товара; Q — количество товара.

1. Как изменилась равновесная цена?
2. Что могло вызвать изменение предложения? Укажите любое одно обстоятельство (фактор) и объясните его влияние на предложение. *Объяснение должно быть дано применительно к рынку, указанному в тексте задания.*
3. Как изменятся спрос и равновесная цена на данном рынке в период Международного женского дня, когда жители страны по традиции дарят женщинам цветы при прочих равных условиях?



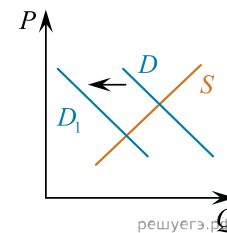
5. На графике изображено изменение ситуации на потребительском рынке овощей в стране Z. Кривая спроса переместилась из положения D в положение D_1 при неизменном предложении S . На графике P — цена товара; Q — количество товара.

1. Как изменилась равновесная цена?
2. Что могло вызвать изменение спроса? Укажите любое одно обстоятельство (фактор) и объясните его влияние на спрос. *Объяснение должно быть дано применительно к рынку, указанному в тексте задания.*
3. Как изменятся предложение и равновесная цена на данном рынке в условиях удорожания минеральных удобрений при прочих равных условиях?



6. На графике изображено изменение ситуации на потребительском рынке стационарных компьютеров в стране Z. Кривая спроса переместилась из положения D в положение D_1 при неизменном предложении S . На графике P — цена товара; Q — количество товара.

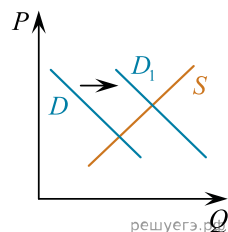
1. Как изменилась равновесная цена?
2. Что могло вызвать изменение спроса? Укажите любое одно обстоятельство (фактор) и объясните его влияние на спрос. *Объяснение должно быть дано применительно к рынку, указанному в тексте задания.*
3. Как изменятся предложение и равновесная цена на данном рынке в условиях появления нового крупного производителя компьютерной техники на рынке государства Z при прочих равных условиях?



7. На графике изображено изменение ситуации на потребительском рынке отечественных автомобилей в стране Z. Кривая спроса переместилась из положения D в положение D_1 при неизменном предложении S . На графике P — цена товара; Q — количество товара.

1. Как изменилась равновесная цена?
2. Что могло вызвать изменение спроса? Укажите любое одно обстоятельство (фактор) и объясните его влияние на спрос. *Объяснение должно быть дано применительно к рынку, указанному в тексте задания.*

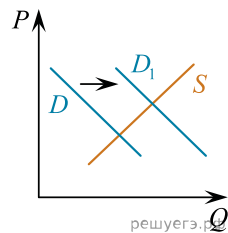
3. Как изменятся предложение и равновесная цена на данном рынке после начала выделения властями государства Z дотаций заводам-производителям отечественных автомобилей при прочих равных условиях?



8. На графике изображено изменение ситуации на потребительском рынке бытовой химии в стране Z. Кривая спроса переместилась из положения D в положение D_1 при неизменном предложении S . На графике P — цена товара; Q — количество товара.

1. Как изменилась равновесная цена?
2. Что могло вызвать изменение спроса? Укажите любое одно обстоятельство (фактор) и объясните его влияние на спрос. *Объяснение должно быть дано применительно к рынку, указанному в тексте задания.*

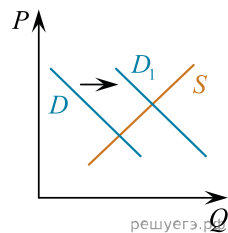
3. Как изменятся предложение и равновесная цена продукции бытовой химии на рынке государства Z после массового внедрения более экономичной технологии производства данной продукции при прочих равных условиях?



9. На графике изображено изменение ситуации на потребительском рынке одежды этнического стиля в стране Z. Кривая спроса переместилась из положения D в положение D_1 при неизменном предложении S . На графике P — цена товара; Q — количество товара.

1. Как изменилась равновесная цена?
2. Что могло вызвать изменение спроса? Укажите любое одно обстоятельство (фактор) и объясните его влияние на спрос. *Объяснение должно быть дано применительно к рынку, указанному в тексте задания.*

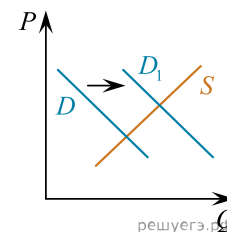
3. Как изменятся предложение и равновесная цена одежды этнического стиля на рынке государства Z после удешевления стоимости тканей при прочих равных условиях?



10. На графике изображено изменение ситуации на потребительском рынке отечественных моторных лодок в стране Z. Кривая спроса переместилась из положения D в положение D_1 при неизменном предложении S . На графике P — цена товара; Q — количество товара.

1. Как изменилась равновесная цена?
2. Что могло вызвать изменение спроса? Укажите любое одно обстоятельство (фактор) и объясните его влияние на спрос. *Объяснение должно быть дано применительно к рынку, указанному в тексте задания.*

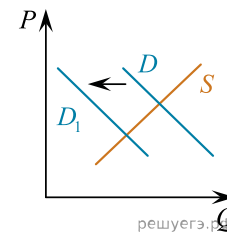
3. Как изменятся предложение и равновесная цена на данном рынке после начала выделения властями государства Z дотаций заводам-производителям отечественных моторных лодок при прочих равных условиях?



11. На графике изображено изменение ситуации на потребительском рынке пассажирских железнодорожных перевозок в стране Z. Кривая спроса переместилась из положения D в положение D_1 при неизменном предложении S . На графике P — цена товара; Q — количество товара.

1. Как изменилась равновесная цена?
2. Что могло вызвать изменение спроса? Укажите любое одно обстоятельство (фактор) и объясните его влияние на спрос. *Объяснение должно быть дано применительно к рынку, указанному в тексте задания.*

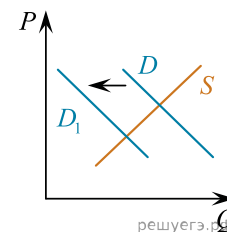
3. Как изменятся предложение и равновесная цена на данном рынке в условиях появления нового крупного оператора железнодорожных перевозок на рынке государства Z при прочих равных условиях?



12. На графике изображено изменение ситуации на потребительском рынке вторичного жилья в стране Z. Кривая спроса переместилась из положения D в положение D_1 при неизменном предложении S . На графике P — цена товара; Q — количество товара.

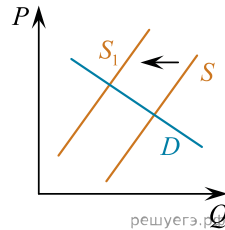
1. Как изменилась равновесная цена?
2. Что могло вызвать изменение спроса? Укажите любое одно обстоятельство (фактор) и объясните его влияние на спрос. *Объяснение должно быть дано применительно к рынку, указанному в тексте задания.*

3. Как изменятся предложение и равновесная цена на данном рынке в условиях увеличения числа риэлторских компаний при прочих равных условиях?



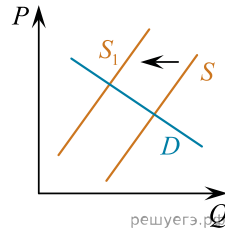
13. На графике изображено изменение ситуации на потребительском рынке ремонтно-строительных услуг в стране Z. Кривая предложения переместилась из положения S в положение S_1 при неизменном спросе D . На графике P — цена товара; Q — количество товара.

1. Как изменилась равновесная цена?
2. Что могло вызвать изменение предложения? Укажите любое одно обстоятельство (фактор) и объясните его влияние на предложение. *Объяснение должно быть дано применительно к рынку, указанному в тексте задания.*
3. Как изменятся спрос и равновесная цена на данном рынке в условиях роста доходов потребителей при прочих равных условиях?



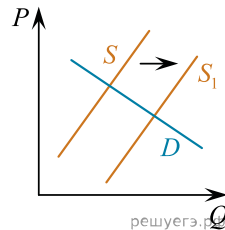
14. На графике изображено изменение ситуации на потребительском рынке обуви в стране Z. Кривая предложения переместилась из положения S в положение S_1 при неизменном спросе D . На графике P — цена товара; Q — количество товара.

1. Как изменилась равновесная цена?
2. Что могло вызвать изменение предложения? Укажите любое одно обстоятельство (фактор) и объясните его влияние на предложение. *Объяснение должно быть дано применительно к рынку, указанному в тексте задания.*
3. Как изменятся спрос и равновесная цена на данном рынке, если вырастет число потребителей при прочих равных условиях?



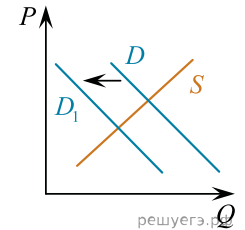
15. На графике изображено изменение ситуации на рынке парикмахерских услуг в стране Z. Кривая предложения переместилась из положения S в положение S_1 при неизменном спросе D . На графике P — цена товара; Q — количество товара.

1. Как изменилась равновесная цена?
2. Что могло вызвать изменение предложения? Укажите любое одно обстоятельство (фактор) и объясните его влияние на предложение. *Объяснение должно быть дано применительно к рынку, указанному в тексте задания.*
3. Как изменятся спрос и равновесная цена на данном рынке, если вырастут доходы населения при прочих равных условиях?



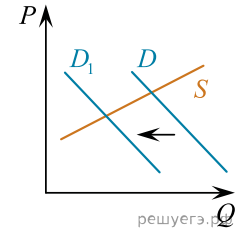
16. На графике изображено изменение ситуации на потребительском рынке бананов, доставляемых из-за рубежа в страну Z. Кривая спроса переместилась из положения D в положение D_1 при неизменном предложении S . На графике P — цена товара; Q — количество товара.

1. Как изменилась равновесная цена?
2. Что могло вызвать изменение спроса? Укажите любое одно обстоятельство (фактор) и объясните его влияние на спрос. *Объяснение должно быть дано применительно к рынку, указанному в тексте задания.*
3. Как изменятся предложение и равновесная цена на данном рынке, если вырастут таможенные тарифы на ввоз в страну бананов при прочих равных условиях?



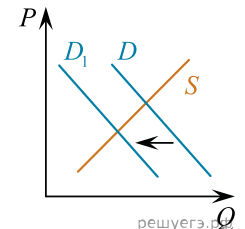
17. На графике изображено изменение ситуации на потребительском рынке дезинфицирующих моющих средств в стране Z. Кривая спроса переместилась из положения D в положение D_1 . На графике P — цена товара; Q — количество товара.

1. Как изменилась равновесная цена?
2. Что могло вызвать изменение спроса? Укажите любое одно обстоятельство (фактор) и объясните его влияние на спрос. *Объяснение должно быть дано применительно к рынку, указанному в тексте задания.*
3. Как изменятся предложение и равновесная цена на данном рынке, если будет закрыта часть предприятий, производящих дезинфицирующие моющие средства, при прочих равных условиях?



18. На графике изображено изменение ситуации на потребительском рынке консервированных овощей в стране Z. Кривая спроса переместилась из положения D в положение D_1 при неизменном предложении S . На графике P — цена товара; Q — количество товара.

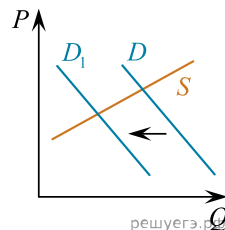
1. Как изменилась равновесная цена?
2. Что могло вызвать изменение спроса? Укажите любое одно обстоятельство (фактор) и объясните его влияние на спрос. *Объяснение должно быть дано применительно к рынку, указанному в тексте задания.*
3. Как изменятся предложение и равновесная цена на данном рынке, если вырастут поставки консервированных овощей из-за рубежа при прочих равных условиях?



19. На графике изображено изменение ситуации на потребительском рынке фарфоровой посуды в стране Z. Кривая спроса переместилась из положения D в положение D_1 . На графике P — цена товара; Q — количество товара.

1. Как изменилась равновесная цена?
2. Что могло вызвать изменение спроса? Укажите любое одно обстоятельство (фактор) и объясните его влияние на спрос. *Объяснение должно быть дано применительно к рынку, указанному в тексте задания.*

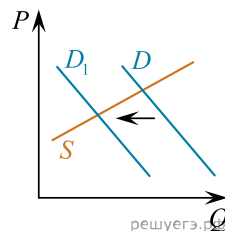
3. Как изменятся предложение и равновесная цена на данном рынке, если пройдёт модернизация производства на всех предприятиях, выпускающих фарфоровую посуду, при прочих равных условиях?



20. На графике изображено изменение ситуации на потребительском рынке ёлочных украшений в стране Z. Кривая спроса переместилась из положения D в положение D_1 при неизменном предложении S . На графике P — цена товара; Q — количество товара.

1. Как изменилась равновесная цена?
2. Что могло вызвать изменение спроса? Укажите любое одно обстоятельство (фактор) и объясните его влияние на спрос. *Объяснение должно быть дано применительно к рынку, указанному в тексте задания.*

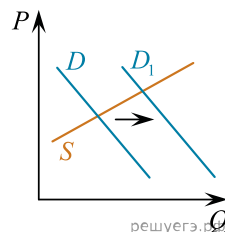
3. Как изменятся предложение и равновесная цена на данном рынке, если сократится число продавцов ёлочных украшений при прочих равных условиях?



21. На графике изображено изменение ситуации на потребительском рынке обуви из экокожи в стране Z. Кривая спроса переместилась из положения D в положение D_1 . На графике P — цена товара; Q — количество товара.

1. Как изменилась равновесная цена?
2. Что могло вызвать изменение спроса? Укажите любое одно обстоятельство (фактор) и объясните его влияние на спрос. *Объяснение должно быть дано применительно к рынку, указанному в тексте задания.*

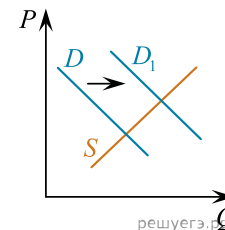
3. Как изменятся предложение и равновесная цена на данном рынке, если при прочих равных условиях будут снижены налоги на производство товаров из искусственного сырья, позволяющего экономить природные ресурсы?



22. На графике изображено изменение ситуации на потребительском рынке бытовых холодильников и морозильников в стране Z. Кривая спроса переместилась из положения D в положение D_1 при неизменном предложении S . На графике P — цена товара; Q — количество товара.

1. Как изменилась равновесная цена?
2. Что могло вызвать изменение спроса? Укажите любое одно обстоятельство (фактор) и объясните его влияние на спрос. *Объяснение должно быть дано применительно к рынку, указанному в тексте задания.*

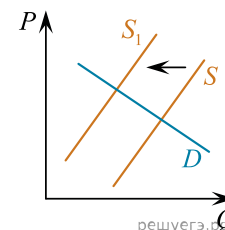
3. Как изменятся предложение и равновесная цена на данном рынке, если при прочих равных условиях вырастут цены на аккумуляторы искусственного холода для бытовых холодильников и морозильников?



23. На графике изображено изменение ситуации на потребительском рынке курток из экокожи в стране Z. Кривая предложения переместилась из положения S в положение S_1 . На графике P — цена товара; Q — количество товара.

1. Как изменилась равновесная цена?
2. Что могло вызвать изменение предложения? Укажите любое одно обстоятельство (фактор) и объясните его влияние на предложение. *Объяснение должно быть дано применительно к рынку, указанному в тексте задания.*

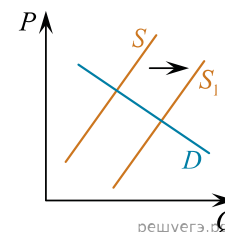
3. Как изменятся спрос и равновесная цена на данном рынке, если при прочих равных условиях изделия из экокожи войдут в моду?



24. На графике изображено изменение ситуации на рынке посуды в стране Z. Предложение переместилось из положения S в положение S_1 при неизменном спросе D . На графике P — цена товара; Q — количество товара.

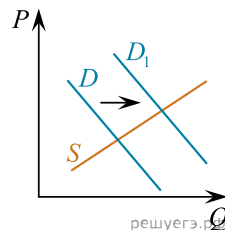
1. Как изменилась равновесная цена?
2. Что могло вызвать изменение предложения? Укажите любое одно обстоятельство (фактор) и объясните его влияние на предложение. *Объяснение должно быть дано применительно к рынку, указанному в тексте задания.*

3. Как изменятся спрос и равновесная цена на данном рынке, если при прочих равных условиях увеличится количество рекламы предприятий общественного питания?



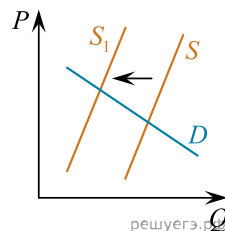
25. На графике изображено изменение ситуации на потребительском рынке колбасных изделий в стране Z. Кривая спроса переместилась из положения D в положение D_1 при неизменном предложении S . На графике P — цена товара; Q — количество товара.

1. Как изменилась равновесная цена?
2. Что могло вызвать изменение спроса? Укажите любое одно обстоятельство (фактор) и объясните его влияние на спрос. *Объяснение должно быть дано применительно к рынку, указанному в тексте задания.*
3. Как при прочих равных условиях изменятся предложение и равновесная цена на данном рынке, если будут закрываться предприятия, которые изготавливают колбасные изделия?



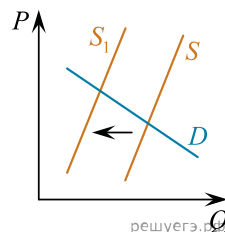
26. На графике изображено изменение ситуации на потребительском рынке ёлочных игрушек в стране Z. Кривая предложения переместилась из положения S в положение S_1 . На графике P — цена товара; Q — количество товара.

1. Как изменилась равновесная цена?
2. Что могло вызвать изменение предложения? Укажите любое одно обстоятельство (фактор) и объясните его влияние на предложение. *Объяснение должно быть дано применительно к рынку, указанному в тексте задания.*
3. Как изменятся спрос и равновесная цена на данном рынке, если при прочих равных условиях традиция устанавливать новогоднюю ёлку уйдёт в прошлое?



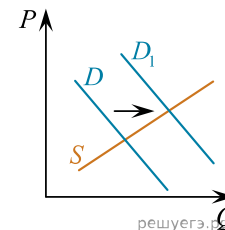
27. На графике изображено изменение ситуации на потребительском рынке одноразовых линз для коррекции зрения в стране Z. Кривая предложения переместилась из положения S в положение S_1 при неизменном спросе D . На графике P — цена товара; Q — количество товара.

1. Как изменилась равновесная цена?
2. Что могло вызвать изменение предложения? Укажите любое одно обстоятельство (фактор) и объясните его влияние на предложение. *Объяснение должно быть дано применительно к рынку, указанному в тексте задания.*
3. Как изменятся спрос и равновесная цена на данном рынке, если сократится количество нуждающихся в коррекции зрения при прочих равных условиях?



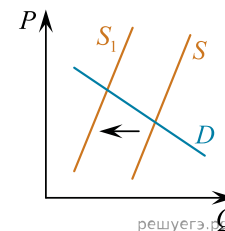
28. На графике изображено изменение ситуации на потребительском рынке роботов — мойщиков окон в стране Z. Кривая спроса переместилась из положения D в положение D_1 при неизменном предложении S . На графике P — цена товара; Q — количество товара.

1. Как изменилась равновесная цена?
2. Что могло вызвать изменение спроса? Укажите любое одно обстоятельство (фактор) и объясните его влияние на спрос. *Объяснение должно быть дано применительно к рынку, указанному в тексте задания.*
3. Как изменятся предложение и равновесная цена на данном рынке, если произойдёт техническое переоснащение производства роботов-мойщиков окон при прочих равных условиях?



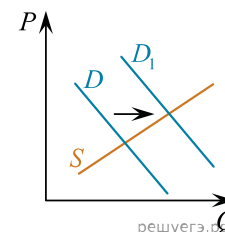
29. На графике изображено изменение ситуации на потребительском рынке телевизоров, имеющих функцию выхода в Интернет, в стране Z. Кривая предложения переместилась из положения S в положение S_1 при неизменном спросе D . На графике P — цена товара; Q — количество товара.

1. Как изменилась равновесная цена?
2. Что могло вызвать изменение предложения? Укажите любое одно обстоятельство (фактор) и объясните его влияние на предложение. *Объяснение должно быть дано применительно к рынку, указанному в тексте задания.*
3. Как изменятся спрос и равновесная цена на данном рынке, если провайдеры в стране Z поднимут цены на доступ пользователей в Интернет при прочих равных условиях?



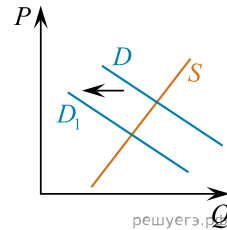
30. На графике изображено изменение ситуации на потребительском рынке обуви из экокожи в стране Z. Кривая спроса переместилась из положения D в положение D_1 при неизменном предложении S . На графике P — цена товара; Q — количество товара.

1. Как изменилась равновесная цена?
2. Что могло вызвать изменение спроса? Укажите любое одно обстоятельство (фактор) и объясните его влияние на спрос. *Объяснение должно быть дано применительно к рынку, указанному в тексте задания.*
3. Как изменятся предложение и равновесная цена на данном рынке, если будут внедрены в производство новые технологии переработки искусственного сырья для изготовления экокожи при прочих равных условиях?



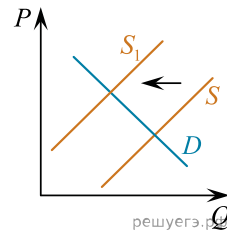
31. На графике изображено изменение ситуации на потребительском рынке ювелирных украшений в стране Z. Кривая спроса переместилась из положения D в положение D_1 при неизменном предложении S . На графике P — цена товара; Q — количество товара.

1. Как изменилась равновесная цена?
2. Что могло вызвать изменение спроса? Укажите любое одно обстоятельство (фактор) и объясните его влияние на спрос. *Объяснение должно быть дано применительно к рынку, указанному в тексте задания.*
3. Как изменятся предложение и равновесная цена на данном рынке, если вырастут мировые цены на драгоценные металлы?



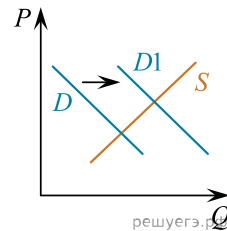
32. На графике изображено изменение ситуации на потребительском рынке хлебо-булочных изделий в стране Z. Кривая предложения переместилась из положения S в положение S_1 при неизменном спросе D . На графике P — цена товара; Q — количество товара.

1. Как изменилась равновесная цена?
2. Что могло вызвать изменение предложения? Укажите любое одно обстоятельство (фактор) и объясните его влияние на предложение. *Объяснение должно быть дано применительно к рынку, указанному в тексте задания.*
3. Как изменятся спрос и равновесная цена на данном рынке, если будут существенно снижены цены на хлебобулочные изделия?



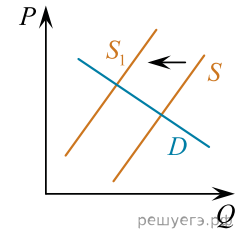
33. На графике изображено изменение ситуации на рынке внутреннего туризма в стране Z. Кривая спроса переместилась из положения D в положение D_1 при неизменном предложении S . На графике P — цена товара; Q — количество товара.

1. Как изменилась равновесная цена?
2. Что могло вызвать изменение спроса? Укажите любое одно обстоятельство (фактор) и объясните его влияние на спрос. *Объяснение должно быть дано применительно к рынку, указанному в тексте задания.*
3. Как изменятся предложение и равновесная цена на данном рынке, если будут существенно расширены внутренние авиационные пассажирские перевозки?



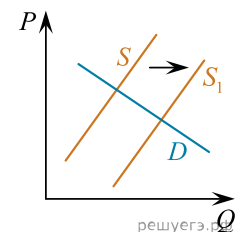
34. На графике изображено изменение ситуации на рынке автомобильных перевозок в стране Z. Кривая предложения переместилась из положения S в положение S_1 при неизменном спросе D . На графике P — цена товара; Q — количество товара.

1. Как изменилась равновесная цена?
2. Что могло вызвать изменение предложения? Укажите любое одно обстоятельство (фактор) и объясните его влияние на предложение. *Объяснение должно быть дано применительно к рынку, указанному в тексте задания.*
3. Как изменятся спрос и равновесная цена на данном рынке, если значительно вырастет стоимость железнодорожных перевозок?



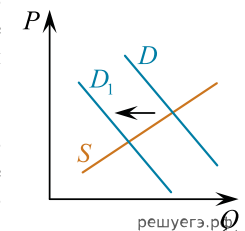
35. На графике изображено изменение ситуации на потребительском рынке сладких газированных напитков в стране Z. Кривая предложения переместилась из положения S в положение S_1 при неизменном спросе D . На графике P — цена товара; Q — количество товара.

1. Как изменилась равновесная цена?
2. Что могло вызвать изменение предложения? Укажите любое одно обстоятельство (фактор) и объясните его влияние на предложение. *Объяснение должно быть дано применительно к рынку, указанному в тексте задания.*
3. Как изменятся спрос и равновесная цена на данном рынке, если министерство здравоохранения страны Z будет регулярно публиковать статистические данные о росте заболеваний, связанных с употреблением сладких газированных напитков при прочих равных условиях?



36. На графике изображено изменение ситуации на потребительском рынке молочных товаров в стране Z. Кривая спроса на сливочное масло переместилась из положения D в положение D_1 при неизменном предложении S . На графике P — цена товара; Q — количество товара.

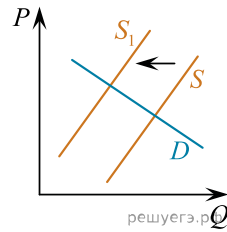
1. Как изменилась равновесная цена?
2. Что могло вызвать изменение спроса? Укажите любое одно обстоятельство (фактор) и объясните его влияние на спрос. *Объяснение должно быть дано применительно к рынку, указанному в тексте задания.*
3. Как изменятся предложение и равновесная цена на данном рынке, если в стране уменьшится поголовье молочного скота при прочих равных условиях?



37. На графике изображено изменение ситуации на рынке печатных книг в стране Z. Кривая предложения переместилась из положения S в положение S_1 при неизменном спросе D . На графике P — цена товара; Q — количество товара.

1. Как изменилась равновесная цена?
2. Что могло вызвать изменение предложения? Укажите любое одно обстоятельство (фактор) и объясните его влияние на предложение. *Объяснение должно быть дано применительно к рынку, указанному в тексте задания.*

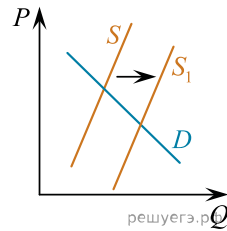
3. Как изменятся спрос и равновесная цена на данном рынке, если при прочих равных условиях увеличится предпочтение потребителей читать электронные книги?



38. На графике изображено изменение ситуации на потребительском рынке бытовых оконных кондиционеров в стране Z. Кривая предложения переместилась из положения S в положение S_1 при неизменном спросе D . На графике P — цена товара; Q — количество товара.

1. Как изменилась равновесная цена?
2. Что могло вызвать изменение предложения? Укажите любое одно обстоятельство (фактор) и объясните его влияние на предложение. *Объяснение должно быть дано применительно к рынку, указанному в тексте задания.*

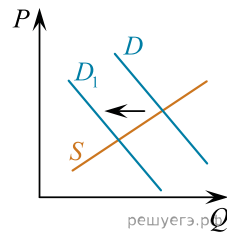
3. Как изменятся спрос и равновесная цена на данном рынке, если в стране Z развернется массовое строительство жилых домов с централизованной единой системой кондиционирования при прочих равных условиях?



39. На графике изображено изменение ситуации на рынке услуг экскурсоводов в стране Z. Кривая спроса на услуги экскурсоводов переместилась из положения D в положение D_1 при неизменном предложении S . На графике P — цена товара; Q — количество товара.

1. Как изменилась равновесная цена?
2. Что могло вызвать изменение спроса? Укажите любое одно обстоятельство (фактор) и объясните его влияние на спрос. *Объяснение должно быть дано применительно к рынку, указанному в тексте задания.*

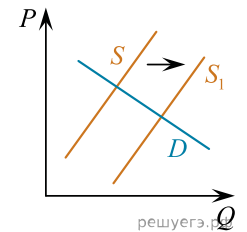
3. Как изменятся предложение и равновесная цена на данном рынке, если будут открыты новые экскурсионные объекты (музеи, мемориальные центры, картинные галереи) при прочих равных условиях?



40. На графике изображено изменение ситуации на потребительском рынке однодневных контактных линз для коррекции зрения в стране Z. Кривая предложения переместилась из положения S в положение S_1 при неизменном спросе D . (На графике P — цена товара; Q — количество товара.)

1. Как изменилась равновесная цена?
2. Что могло вызвать изменение предложения? Укажите любое одно обстоятельство (фактор) и объясните его влияние на предложение. *(Объяснение должно быть дано применительно к рынку, указанному в тексте задания.)*

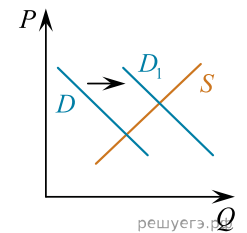
3. Как изменятся спрос и равновесная цена на данном рынке, если будет существенно снижена стоимость изготовления очков для коррекции зрения при прочих равных условиях?



41. На графике изображено изменение ситуации на потребительском рынке молочных продуктов в стране Z. Кривая спроса на термостатные йогурты переместилась из положения D в положение D_1 при неизменном предложении S . (На графике P — цена товара; Q — количество товара.)

1. Как изменилась равновесная цена?
2. Что могло вызвать изменение спроса? Укажите любое одно обстоятельство (фактор) и объясните его влияние на спрос. *(Объяснение должно быть дано применительно к рынку, указанному в тексте задания.)*

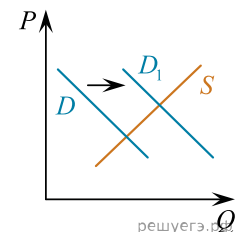
3. Как изменятся предложение и равновесная цена на данном рынке, если на молокозаводах страны внедрят модернизированные поточные линии по выпуску термостатных йогуртов при прочих равных условиях?



42. На графике изображено изменение ситуации на рынке городского жилья в стране Z. Кривая спроса переместилась из положения D в положение D_1 при неизменном предложении S . (На графике P — цена товара; Q — количество товара.)

1. Как изменилась равновесная цена?
2. Что могло вызвать изменение спроса? Укажите любое одно обстоятельство (фактор) и объясните его влияние на спрос. *(Объяснение должно быть дано применительно к рынку, указанному в тексте задания.)*

3. Как изменятся предложение и равновесная цена на данном рынке, если границы городских поселений будут существенно расширены?



43. На графике изображено изменение ситуации на рынке загородного жилья в стране Z. Кривая предложения переместилась из положения S в положение S_1 при неизменном спросе D (На графике P — цена товара; Q — количество товара).

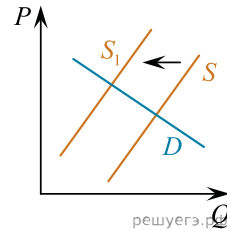
Как изменилась равновесная цена?

Что могло вызвать изменение предложения?

Укажите любое одно обстоятельство (фактор) и объясните его влияние на спрос.

(Объяснение должно быть дано применительно к рынку, указанному в тексте задания.)

Как изменятся спрос и равновесная цена на данном рынке, если существенно повысятся цены на автомобильное топливо и на проезд в междугороднем общественном транспорте?



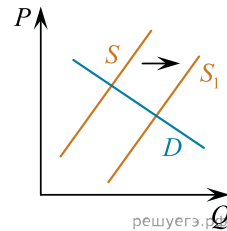
44. На графике изображено изменение ситуации на потребительском рынке фасованного натурального кофе в зёрнах в стране Z. Кривая предложения переместилась из положения S в положение S_1 при неизменном спросе D . (На графике P — цена товара; Q — количество товара.)

Как изменилась равновесная цена?

Что могло вызвать изменение предложения? Укажите любое одно обстоятельство (фактор) и объясните его влияние на предложение.

(Объяснение должно быть дано применительно к рынку, указанному в тексте задания.)

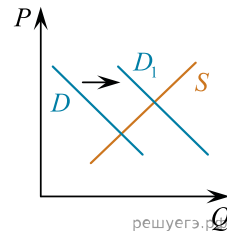
Как изменятся спрос и равновесная цена на данном рынке, если значительно подешевеет фасованный натуральный молотый кофе при прочих равных условиях?



45. На графике изображено изменение ситуации на потребительском рынке инвентаря для горных походов в стране Z. Кривая спроса на инвентарь для горных походов переместилась из положения D в положение D_1 при неизменном предложении S . (На графике P — цена товара; Q — количество товара.) Как изменилась равновесная цена?

Что могло вызвать изменение спроса? Укажите любое одно обстоятельство (фактор) и объясните его влияние на спрос. (Объяснение должно быть дано применительно к рынку, указанному в тексте задания.)

Как изменятся предложение и равновесная цена на данном рынке, если при производстве туристического инвентаря для горных походов будут повсеместно использоваться нанотехнологии и новые композитные материалы при прочих равных условиях?



46. На графике изображено изменение ситуации на рынке детских игрушек в стране Z. Кривая спроса переместилась из положения D в положение D_1 при неизменном предложении S . (На графике P — цена товара; Q — количество товара.)

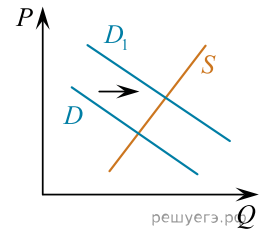
Как изменилась равновесная цена?

Что могло вызвать изменение спроса?

Укажите любое одно обстоятельство (фактор) и объясните его влияние на спрос.

(Объяснение должно быть дано применительно к рынку, указанному в тексте задания.)

Как изменятся предложение и равновесная цена на данном рынке, если в стране будут снижены налоги на товары для детей?



47. На графике изображено изменение ситуации на мировом рынке шоколадных изделий. Кривая предложения переместилась из положения S в положение S_1 при неизменном спросе D . (На графике P — цена товара; Q — количество товара.)

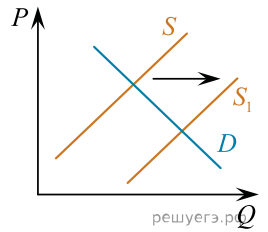
Как изменилась равновесная цена?

Что могло вызвать изменение предложения?

Укажите любое одно обстоятельство (фактор) и объясните его влияние на предложение.

(Объяснение должно быть дано применительно к рынку, указанному в тексте задания.)

Как изменятся спрос и равновесная цена на данном рынке при приближении новогодних праздников?



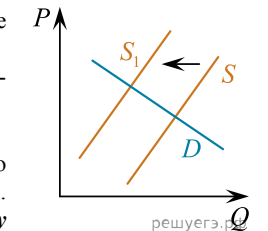
48. На графике изображено изменение ситуации на потребительском рынке кормов для домашних кроликов и морских свинок в стране Z. Кривая предложения переместилась из положения S в положение S_1 при неизменном спросе D . (На графике P — цена товара; Q — количество товара.)

Как изменилась равновесная цена?

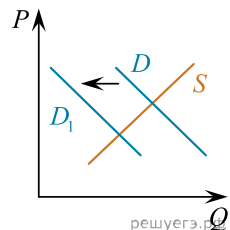
Что могло вызвать изменение предложения? Укажите любое одно обстоятельство (фактор) и объясните его влияние на предложение.

(Объяснение должно быть дано применительно к рынку, указанному в тексте задания.)

Как изменятся спрос и равновесная цена на данном рынке, если заметно возрастёт количество владельцев домашних кроликов и морских свинок при прочих равных условиях?



49. На графике изображено изменение ситуации на потребительском рынке книг для детей 2–5 лет в стране Z. Кривая спроса на книги для детей этого возраста переместилась из положения D в положение D_1 при неизменном предложении S . (На графике P — цена товара; Q — количество товара.)

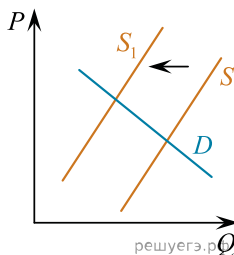


Как изменилась равновесная цена?
Что могло вызвать изменение спроса? Укажите любое одно обстоятельство (фактор) и объясните его влияние на спрос.

(Объяснение должно быть дано применительно к рынку, указанному в тексте задания.)

Как изменятся предложение и равновесная цена на данном рынке, если будут снижены налоги на издание книг для детей 2–5 лет и типографии, выпускающие эти книги, получают субсидии из государственного бюджета при прочих равных условиях?

50. На графике изображено изменение ситуации на рынке услуг частных детских садов. Кривая предложения переместилась из положения S в положение S_1 при неизменном спросе D . (На графике P — цена товара; Q — количество товара.)

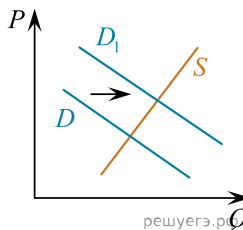


Как изменилась равновесная цена?
Что могло вызвать изменение предложения?
Укажите любое одно обстоятельство (фактор) и объясните его влияние на предложение.

(Объяснение должно быть дано применительно к рынку, указанному в тексте задания.)

Как изменятся спрос и равновесная цена на данном рынке, если при прочих равных условиях в стране увеличится рождаемость?

51. На графике изображено изменение ситуации на рынке мяса птицы в стране Z. Кривая спроса переместилась из положения D в положение D_1 при неизменном предложении S . (На графике P — цена товара; Q — количество товара.)

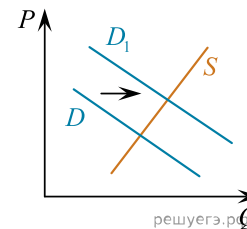


Как изменилась равновесная цена?
Что могло вызвать изменение спроса?
Укажите любое одно обстоятельство (фактор) и объясните его влияние на спрос.

(Объяснение должно быть дано применительно к рынку, указанному в тексте задания.)

Как изменятся предложение и равновесная цена на данном рынке, если в стране будет отмечено быстрое распространение птичьего гриппа?

52. На графике изображено изменение ситуации на рынке лекарственных средств от простуды. Кривая спроса переместилась из положения D в положение D_1 при неизменном предложении S . (На графике P — цена товара; Q — количество товара.)

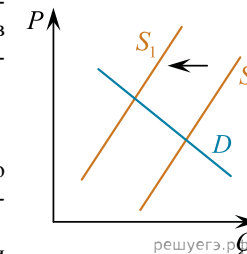


Как изменилась равновесная цена?
Что могло вызвать изменение спроса?
Укажите любое одно обстоятельство (фактор) и объясните его влияние на спрос.

(Объяснение должно быть дано применительно к рынку, указанному в тексте задания.)

Как изменятся предложение и равновесная цена на данном рынке, если будет принят закон об отмене таможенных пошлин на зарубежные лекарства от простуды?

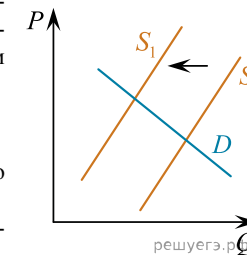
53. На графике изображено изменение ситуации на рынке джинсовой одежды. Кривая предложения переместилась из положения S в положение S_1 при неизменном спросе D . (На графике P — цена товара; Q — количество товара.)



Как изменилась равновесная цена?
Что могло вызвать изменение предложения?
Укажите любое одно обстоятельство (фактор) и объясните его влияние на предложение. (Объяснение должно быть дано применительно к рынку, указанному в тексте задания.)

Как изменятся спрос и равновесная цена на данном рынке, если при прочих равных условиях повседневная спортивная одежда войдет в моду?

54. На графике изображено изменение ситуации на потребительском рынке бытовых стиральных машин в стране Z. Кривая предложения переместилась из положения S в положение S_1 при неизменном спросе D . (На графике P — цена товара; Q — количество товара.)

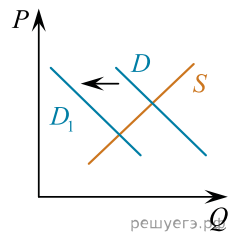


Как изменилась равновесная цена?
Что могло вызвать изменение предложения?
Укажите любое одно обстоятельство (фактор) и объясните его влияние на предложение.

(Объяснение должно быть дано применительно к рынку, указанному в тексте задания.)

Как изменятся спрос и равновесная цена на данном рынке, если при прочих равных условиях в стране Z будет активно развиваться жилищное строительство?

55. На графике изображено изменение ситуации на потребительском рынке импортных фруктов в стране Z. Кривая спроса на импортные фрукты переместилась из положения D в положение D_1 при неизменном предложении S . (На графике P — цена товара; Q — количество товара.)

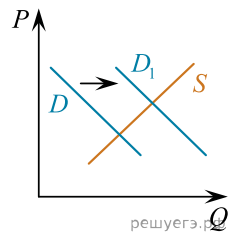


Как изменилась равновесная цена?

Что могло вызвать изменение спроса? Укажите любое одно обстоятельство (фактор) и объясните его влияние на спрос. (Объяснение должно быть дано применительно к рынку, указанному в тексте задания.)

Как изменятся предложение и равновесная цена на данном рынке, если при прочих равных условиях санитарная служба страны Z введёт более строгие требования по обязательной сертификации импортных фруктов?

56. На графике изображено изменение ситуации на рынке автомобилей в стране Z. Кривая спроса переместилась из положения D в положение D_1 при неизменном предложении S . (На графике P — цена товара; Q — количество товара.)



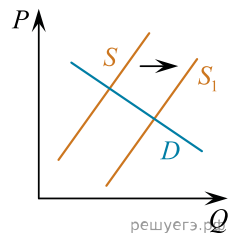
Как изменилась равновесная цена?

Что могло вызвать изменение спроса?

Укажите любое одно обстоятельство (фактор) и объясните его влияние на спрос. (Объяснение должно быть дано **применительно к рынку, указанному в тексте задания.**)

Как изменятся предложение и равновесная цена на данном рынке, если в стране будет отмечено снижение стоимости аккумуляторных батарей для автомобилей?

57. На графике изображено изменение ситуации на рынке картофеля. Кривая предложения переместилась из положения S в положение S_1 при неизменном спросе D . (На графике P — цена товара; Q — количество товара.)



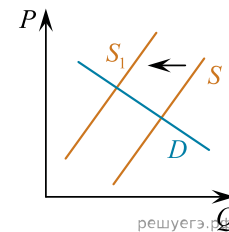
Как изменилась равновесная цена?

Что могло вызвать изменение предложения?

Укажите любое одно обстоятельство (фактор) и объясните его влияние на спрос. (Объяснение должно быть дано **применительно к рынку, указанному в тексте задания.**)

Как изменятся спрос и равновесная цена на данном рынке, если значительно подорожают макаронные изделия?

58. На графике изображено изменение ситуации на потребительском рынке одежды из натуральных материалов в стране Z. Кривая предложения переместилась из положения S в положение S_1 при неизменном спросе D . (На графике P — цена товара; Q — количество товара.)



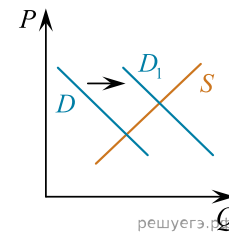
Как изменилась равновесная цена?

Что могло вызвать изменение предложения? Укажите любое одно обстоятельство (фактор) и объясните его влияние на предложение.

(Объяснение должно быть дано **применительно к рынку, указанному в тексте задания.**)

Как изменятся спрос и равновесная цена на данном рынке, если при прочих равных условиях одежда из натуральных материалов войдёт в моду?

59. На графике изображено изменение ситуации на потребительском рынке кисломолочных продуктов в стране Z. Кривая спроса на кисломолочные продукты переместилась из положения D в положение D_1 при неизменном предложении S . (На графике P — цена товара; Q — количество товара.)

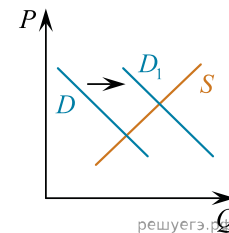


Как изменилась равновесная цена?

Что могло вызвать изменение спроса? Укажите любое одно обстоятельство (фактор) и объясните его влияние на спрос. (Объяснение должно быть дано **применительно к рынку, указанному в тексте задания.**)

Как изменятся предложение и равновесная цена на данном рынке, если при прочих равных условиях государство установит более строгие требования к качеству кисломолочных продуктов и санитарному состоянию предприятий по их производству?

60. На графике изображено изменение ситуации на рынке прохладительных напитков в стране Z. Кривая спроса переместилась из положения D в положение D_1 при неизменном предложении S . (На графике P — цена товара; Q — количество товара.)



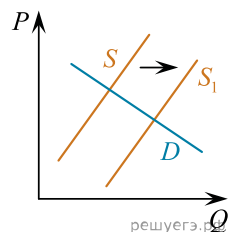
Как изменилась равновесная цена?

Что могло вызвать изменение спроса?

Укажите любое одно обстоятельство (фактор) и объясните его влияние на спрос. (Объяснение должно быть дано применительно к рынку, указанному в тексте задания.)

Как изменятся предложение и равновесная цена на данном рынке, если в стране будут ужесточены требования к составу и качеству сырья для прохладительных напитков?

61. На графике изображено изменение ситуации на рынке новых квартир в стране Z. Кривая предложения переместилась из положения S в положение S_1 при неизменном спросе D . (На графике P — цена товара; Q — количество товара.)



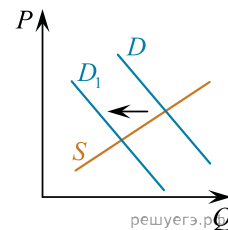
Как изменилась равновесная цена?

Что могло вызвать изменение предложения?

Укажите любое одно обстоятельство (фактор) и объясните его влияние на предложение. (Объяснение должно быть дано **применительно к рынку, указанному в тексте задания.**)

Как изменятся спрос и равновесная цена на данном рынке, если в стране будут снижены ставки ипотечных кредитов на покупку жилья?

62. На графике изображено изменение ситуации на потребительском рынке пассажирских железнодорожных перевозок в стране Z. Кривая спроса переместилась из положения D в положение D_1 при неизменном предложении S . На графике P — цена товара; Q — количество товара.

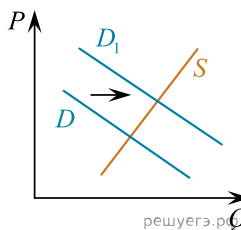


Как изменилась равновесная цена?

Что могло вызвать изменение спроса? Укажите любое одно обстоятельство (фактор) и объясните его влияние на спрос. *Объяснение должно быть дано применительно к рынку, указанному в тексте задания.*

Как изменятся предложение и равновесная цена на данном рынке, если при прочих равных условиях будет построена новая скоростная железная дорога между крупными городами?

63. На графике изображено изменение ситуации на рынке услуг парикмахеров в стране Y. Кривая спроса переместилась из положения D в положение D_1 при неизменном предложении S . (На графике P — цена товара; Q — количество товара.)

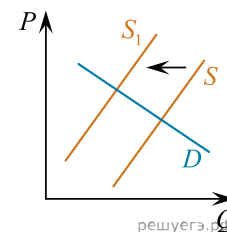


Как изменилась равновесная цена?

Что могло вызвать изменение спроса? Укажите любое одно обстоятельство (фактор) и объясните его влияние на спрос. (Объяснение должно быть дано применительно к рынку, указанному в тексте задания.)

Как изменятся предложение и равновесная цена на данном рынке, если в стране Y при прочих равных условиях будут введены более жесткие санитарные нормы для парикмахерских салонов?

64. На графике изображено изменение ситуации на потребительском рынке одноразовой пластиковой посуды в стране Z. Кривая предложения переместилась из положения S в положение S_1 при неизменном спросе D . (На графике P — цена товара, Q — количество товара.)

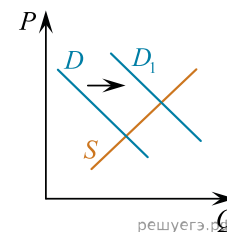


Как изменилась равновесная цена?

Что могло вызвать изменение предложения? Укажите любое одно обстоятельство (фактор) и объясните его влияние на предложение. (Объяснение должно быть дано **применительно к рынку, указанному в тексте задания.**)

Как изменятся спрос и равновесная цена на данном рынке, если при прочих равных условиях потребители поддержат инициативу использовать экологичную многоразовую посуду?

65. На графике изображено изменение ситуации на потребительском рынке спортивных товаров для детей в стране Z. Кривая спроса на спортивные товары для детей переместилась из положения D в положение D_1 при неизменном предложении S . (На графике P — цена товара, Q — количество товара.)

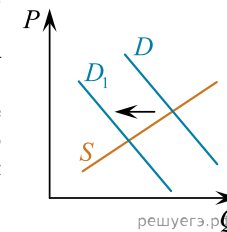


Как изменилась равновесная цена?

Что могло вызвать изменение спроса? Укажите любое одно обстоятельство (фактор) и объясните его влияние на спрос. (Объяснение должно быть дано **применительно к рынку, указанному в тексте задания.**)

Как изменятся предложение и равновесная цена на данном рынке, если при прочих равных условиях государство установит льготное налогообложение для производителей детских спортивных товаров?

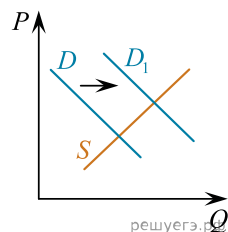
66. На графике изображено изменение ситуации на рынке вентиляторов. Кривая спроса переместилась из положения D в положение D_1 при неизменном предложении S . (На графике P — цена товара; Q — количество товара.)



Как изменилась равновесная цена? Что могло вызвать изменение спроса? Укажите любое одно обстоятельство (фактор) и объясните его влияние на спрос. (Объяснение должно быть дано применительно к рынку, указанному в тексте задания.)

Как изменятся предложение и равновесная цена на данном рынке, если при прочих равных условиях вырастут цены на материалы и комплектующие для производства вентиляторов?

67. На графике изображено изменение ситуации на рынке деревянных пиломатериалов для строительства в стране Z. Кривая спроса переместилась из положения D в положение D_1 при неизменном предложении S . (На графике P — цена товара; Q — количество товара.)



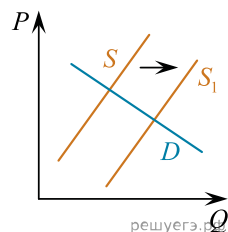
Как изменилась равновесная цена?

Что могло вызвать изменение спроса?

Укажите любое одно обстоятельство (фактор) и объясните его влияние на спрос. (Объяснение должно быть дано **применительно к рынку, указанному в тексте задания.**)

Как изменятся предложение и равновесная цена на данном рынке, если в стране будет запрещён экспорт дерева за рубеж?

68. На графике изображено изменение ситуации на рынке железнодорожных пассажирских перевозок в стране Z. Кривая предложения переместилась из положения S в положение S_1 при неизменном спросе D . (На графике P — цена товара; Q — количество товара.)



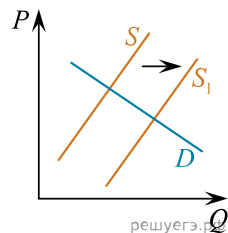
Как изменилась равновесная цена?

Что могло вызвать изменение предложения?

Укажите любое одно обстоятельство (фактор) и объясните его влияние на предложение. (Объяснение должно быть дано **применительно к рынку, указанному в тексте задания.**)

Как изменятся спрос и равновесная цена на данном рынке, если в стране будут снижены цены на авиабилеты?

69. На графике изображено изменение ситуации на рынке наручных часов в стране Z. Предложение переместилось из положения S в положение S_1 при неизменном спросе D (на графике P — цена товара, Q — количество товара).

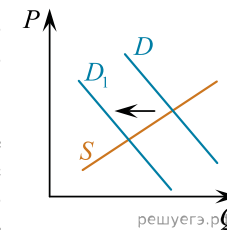


1. Как изменилась равновесная цена?

2. Что могло вызвать изменение предложения? Укажите любое одно обстоятельство (фактор) и объясните его влияние на предложение. *Объяснение должно быть дано применительно к рынку, указанному в тексте задания.*

3. Как изменятся спрос и равновесная цена на данном рынке, если при прочих равных условиях увеличится использование потребителями электронных часов в гаджетах?

70. На графике изображено изменение ситуации на рынке кофе. Кривая спроса переместилась из положения D в положение D_1 при неизменном предложении S . (На графике P — цена товара; Q — количество товара.)

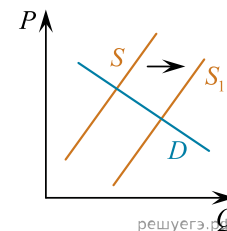


Как изменилась равновесная цена?

Что могло вызвать изменение спроса? Сначала укажите любое одно обстоятельство (фактор), затем объясните его влияние на спрос (обязательно укажите характер изменения спроса). (Объяснение должно быть дано **применительно к рынку, указанному в тексте задания.**)

Как изменятся предложение и равновесная цена на данном рынке, если при прочих равных условиях повысится урожайность на кофейных плантациях?

71. На графике изображено изменение ситуации на рынке картофеля в стране Z. Кривая предложения переместилась из положения S в положение S_1 при неизменном спросе D . (На графике P — цена товара; Q — количество товара.)



Как изменилась равновесная цена?

Что могло вызвать изменение предложения?

Сначала укажите любое одно обстоятельство (фактор), затем объясните его влияние на предложение (обязательно укажите характер изменения предложения). (Объяснение должно быть дано **применительно к рынку, указанному в тексте задания.**)

Как изменятся спрос и равновесная цена на данном рынке, если в стране будут снижены цены на сельскохозяйственную продукцию?