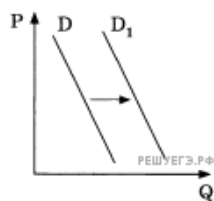


1. На графике отражена ситуация на рынке легковых автомобилей: кривая спроса переместилась из положения  $D$  в положение  $D_1$  (на графике  $P$  — цена товара,  $Q$  — объём спроса).

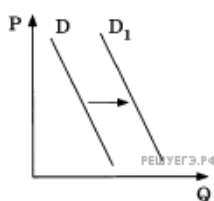
Какие из перечисленных факторов могут вызвать такое изменение? Запишите цифры, под которыми они указаны.



1. Совершенствование технологии производства автомобилей
2. Уменьшение издержек производителей автомобилей
3. Сокращение объёма услуг общественного транспорта
4. Увеличение доходов населения
5. Снижение цен на бензин и дизельное топливо

2. На графике отражено изменение спроса на витаминные добавки к пище на соответствующем рынке: кривая спроса переместилась из положения  $D$  в положение  $D_1$  (на графике  $P$  — цена товара,  $Q$  — количество товара).

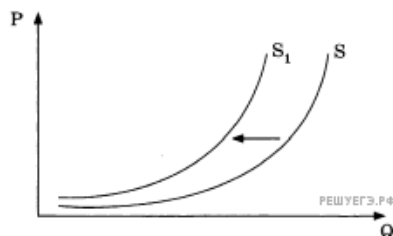
Какие из перечисленных факторов могут вызвать такое изменение? Запишите цифры, под которыми они указаны.



1. Снижение доходов потребителей
2. Активная пропаганда здорового образа жизни
3. Увеличение таможенных пошлин на импортные лекарства и витаминные добавки к пище
4. Повышение цен на свежие овощи и фрукты
5. Открытие нескольких платных поликлиник

3. На графике отражены изменения предложения пшеницы на соответствующем рынке: кривая предложения переместилась из положения  $S$  в положение  $S_1$  (на графике  $P$  — цена товара,  $Q$  — количество товара).

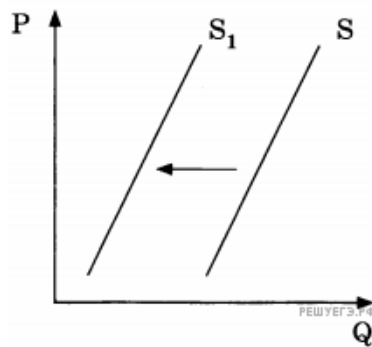
Какие из перечисленных факторов могут вызвать такое изменение? Запишите цифры, под которыми они указаны.



1. Повышение цен на горючее для сельскохозяйственной техники
2. Снижение цен на сельскохозяйственную технику
3. Засуха и неурожай зерна
4. Открытие нескольких хлебобулочных комбинатов
5. Культивирование высокопродуктивных сортов пшеницы

4. На графике отражено изменение предложения бананов на соответствующем рынке: кривая предложения переместилась из положения  $S$  в положение  $S_1$  (на графике  $P$  — цена товара,  $Q$  — количество товара).

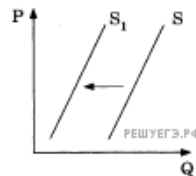
Какие из перечисленных факторов могут вызвать такое изменение? Запишите цифры, под которыми они указаны.



1. Увеличение доходов потребителей
2. Увеличение таможенных пошлин на импорт бананов
3. Предоставление льготных кредитов продавцам бананов
4. Уменьшение цен на энергоносители
5. Неурожай бананов в странах-производителях

5. На графике отражена ситуация на рынке мяса и мясных продуктов: кривая предложения переместилась из положения  $S$  в положение  $S_1$  (на графике  $P$  — цена товара,  $Q$  — количество товара).

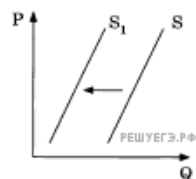
Какие из перечисленных факторов могут вызвать такое изменение? Запишите цифры, под которыми они указаны.



1. Рост числа производителей мясных продуктов
2. Увеличение доходов потребителей
3. Снижение налогов с производителей мясных продуктов
4. Известие об эпидемическом заболевании животных
5. Сокращение поголовья скота в фермерских хозяйствах

6. На графике отражено изменение предложения овощей на соответствующем рынке: кривая предложения переместилась из положения  $S$  в положение  $S_1$  (на графике  $P$  — цена товара,  $Q$  — количество товара).

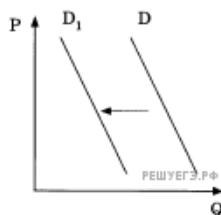
Какие из перечисленных факторов могут вызвать такое изменение? Запишите цифры, под которыми они указаны.



1. Повышение цен на сельскохозяйственную технику
2. Снижение затрат на транспортные услуги
3. Увеличение доходов фермерских хозяйств
4. Низкий урожай овощей
5. Реализация программ государственной поддержки фермерских хозяйств

7. На графике отражена ситуация на рынке парикмахерских услуг: кривая спроса переместилась из положения  $D$  в положение  $D_1$  (на графике  $P$  — цена товара,  $Q$  — количество товара).

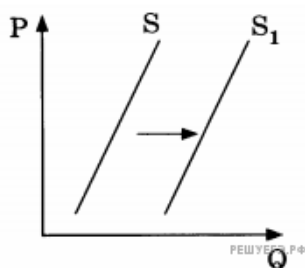
Какие из перечисленных факторов могут вызвать такое изменение? Запишите цифры, под которыми они указаны.



1. Увеличение количества недорогих салонов красоты
2. Увеличение доходности салонов красоты
3. Мода на сложные причёски у женщин
4. Появление в продаже эффективных средств для самостоятельного ухода за волосами
5. Снижение доходов населения

8. На графике изображено изменение положения на рынке свежих фруктов: кривая предложения переместилась из положения  $S$  в положение  $S_1$  (на графике  $P$  — цена товара,  $Q$  — количество товара).

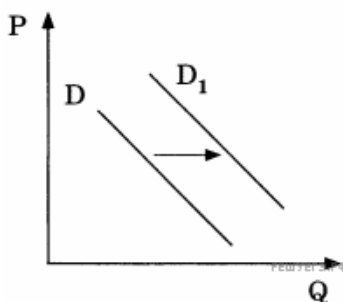
Какие из перечисленных факторов могут вызвать такое изменение? Запишите цифры, под которыми они указаны.



1. Рост таможенных пошлин на импорт фруктов
2. Повышение тарифов на грузовые перевозки
3. Снижение доходов потребителей
4. Высокий урожай фруктов
5. Открытие сети магазинов здорового питания, где продаются экологически чистые овощи и фрукты

9. На графике отражено изменение спроса на легковые автомобили на соответствующем рынке: кривая спроса переместилась из положения  $D$  в положение  $D_1$  (на графике  $P$  — цена товара,  $Q$  — количество товара).

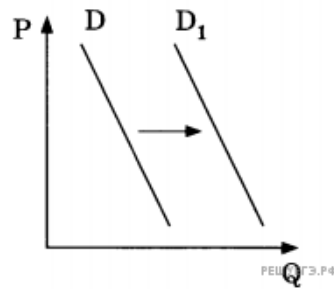
Какие из перечисленных факторов могут вызвать такое изменение? Запишите цифры, под которыми они указаны.



1. Совершенствование технологии производства легковых автомобилей
2. Уменьшение издержек производителей легковых автомобилей
3. Сокращение объема услуг общественного транспорта
4. Увеличение доходов населения
5. Мода дарить легковой автомобиль на совершеннолетие сына или дочери

10. На графике изображено изменение спроса на школьную форму на соответствующем рынке: кривая спроса переместилась из положения  $D$  в положение  $D_1$  (на графике  $P$  — цена товара,  $Q$  — количество товара).

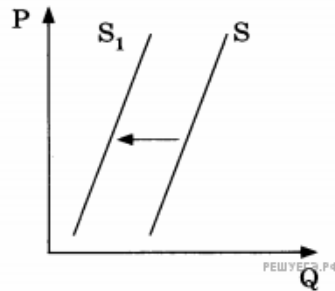
Какие из перечисленных факторов могут вызвать такое изменение? Запишите цифры, под которыми они указаны.



1. Снижение доходов потребителей
2. Принятие закона об обязательной школьной форме
3. Увеличение таможенных пошлин на импортные ткани
4. Повышение цен на энергоносители
5. Скорое начало учебного года в школах

11. На графике отражено изменение предложения бананов на соответствующем рынке страны, не выращивающей бананы: кривая предложения переместилась из положения  $S$  в положение  $S_1$  (на графике  $P$  — цена товара,  $Q$  — количество товара).

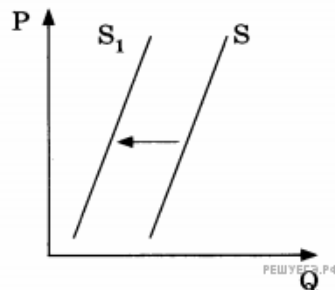
Какие из перечисленных факторов могут вызвать такое изменение? Запишите цифры, под которыми они указаны.



1. Увеличение таможенных пошлин на импорт бананов
2. Предоставление льготных кредитов продавцам бананов
3. Уменьшение цен на энергоносители
4. Увеличение доходов потребителей
5. Низкий урожай бананов

12. На графике отражено изменение предложения моркови и лука на соответствующем рынке: кривая предложения переместилась из положения  $S$  в положение  $S_1$  (на графике  $P$  — цена товара,  $Q$  — количество товара).

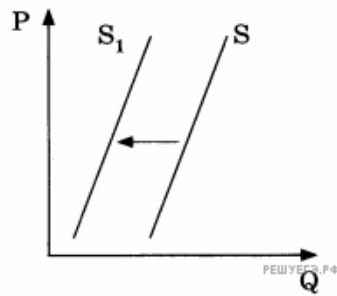
Какие из перечисленных факторов могут вызвать такое изменение? Запишите цифры, под которыми они указаны.



1. Увеличение доходов производителей моркови и лука
2. Гибель урожая в результате неблагоприятных погодных условий
3. Уменьшение платы за аренду земельных участков
4. Снижение цен на дизельное топливо и бензин
5. Повышение цен на посадочные материалы

13. На графике отражено изменение предложения фотоплёнки на соответствующем рынке: кривая предложения переместилась из положения  $S$  в положение  $S_1$  (на графике  $P$  — цена товара,  $Q$  — количество товара).

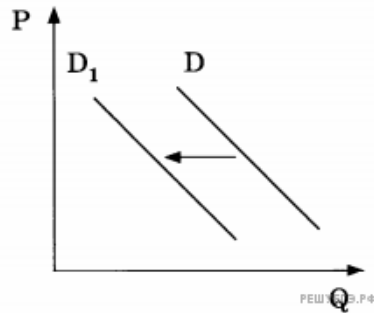
Какие из перечисленных факторов могут вызвать такое изменение? Запишите цифры, под которыми они указаны.



1. Увеличение доходов производителей
2. Увеличение числа владельцев плёночных фотоаппаратов
3. Снижение налога на прибыль производителей
4. Уменьшение количества производителей фотоплёнки
5. Серьёзное удорожание фотоэмульсии, материала для производства фотоплёнок

14. На графике изображено изменение спроса на услуги работающих на коммерческой основе центров детского творчества на соответствующем рынке: кривая спроса переместилась из положения  $D$  в положение  $D_1$  (на графике  $P$  — цена товара,  $Q$  — количество товара).

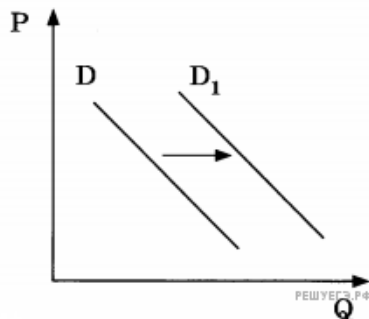
Какие из перечисленных факторов могут вызвать такое изменение? Запишите цифры, под которыми они указаны.



1. Увеличение количества некоммерческих кружков и секций в школах
2. Открытие новых игровых развлекательных центров и аквапарков
3. Укрупнение организаций дополнительного образования
4. Повышение популярности художественного образования детей
5. Сокращение доли детей в структуре населения

15. На графике изображено изменение спроса на недорогую кухонную мебель на соответствующем рынке: кривая спроса переместилась из положения  $D$  в положение  $D_1$  (на графике  $P$  — цена товара,  $Q$  — количество товара).

Какие из перечисленных факторов могут вызвать такое изменение? Запишите цифры, под которыми они указаны.

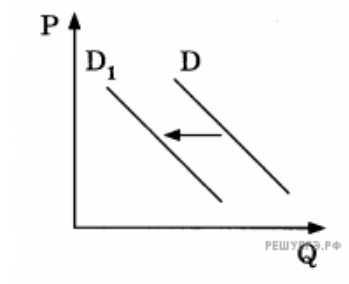


1. Совершенствование технологии производства кухонной мебели
2. Уменьшение издержек производителей кухонной мебели
3. Снижение налогов с небольших мебельных производств
4. Увеличение объёмов строительства нового муниципального жилья
5. Мода на недорогие экологичные кухонные гарнитуры

16. На графике изображено изменение спроса на услуги частных дошкольных учреждений на соответствующем рынке: кривая спроса переместилась из положения  $D$  в положение  $D_1$  (на графике  $P$  — цена товара,  $Q$  — количество товара).

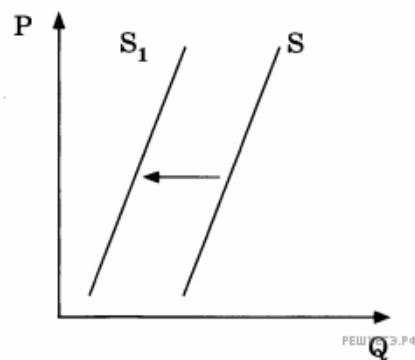
Какие из перечисленных факторов могут вызвать такое изменение? Запишите цифры, под которыми они указаны.

- 1) снижение числа детей дошкольного возраста
- 2) снижение размера оплаты в частных дошкольных учреждениях
- 3) открытие ряда новых муниципальных дошкольных учреждений
- 4) уменьшение числа частных дошкольных учреждений
- 5) широкое распространение практики выхода на работу вскоре после рождения ребёнка



17. На графике изображено изменение предложения тропических фруктов на соответствующем рынке: кривая предложения переместилась из положения  $S$  в положение  $S_1$  (на графике  $P$  — цена товара,  $Q$  — количество товара).

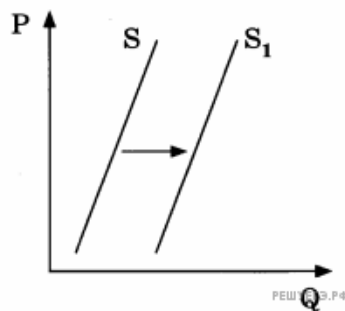
Какие из перечисленных факторов могут вызвать такое изменение? Запишите цифры, под которыми они указаны.



1. Уменьшение затрат производителей фруктов
2. Повышение доходов потребителей
3. Повышение пошлин на импорт фруктов
4. Неурожай тропических фруктов
5. Мода на употребление соков из тропических фруктов

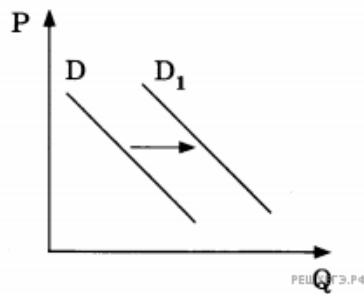
18. На графике отражена ситуация на рынке ветеринарных услуг: кривая предложения переместилась из положения  $S$  в положение  $S_1$  (на графике  $P$  — цена товара,  $Q$  — количество товара).

Какие из перечисленных факторов могут вызвать такое изменение? Запишите цифры, под которыми они указаны.



1. Уменьшение налога на прибыль организаций.
2. Доходы населения стабильно снижаются.
3. Цены на специальное питание для животных постоянно растут.
4. Различные аксессуары для животных стали дешевле.
5. Открылось несколько новых ветеринарных клиник.

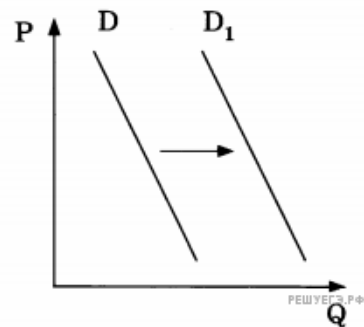
19. На графике отражена ситуация на рынке плетёной дачной мебели: кривая спроса переместилась из положения  $D$  в положение  $D_1$  (на графике  $P$  — цена товара,  $Q$  — количество товара). Это перемещение связано, в первую очередь, с



- 1) Число граждан, владеющих дачными домами, увеличилось.
- 2) Число фирм, производящих плетёную дачную мебель, увеличилось.
- 3) Пошлины на импортную плетёную дачную мебель повысились.
- 4) Уровень доходов потребителей повысился.
- 5) Была повышена ставка земельного налога и налога на имущество граждан.

20. На графике отражена ситуация на рынке страховых услуг: кривая спроса переместилась из положения  $D$  в положение  $D_1$  (на графике  $P$  — цена товара,  $Q$  — количество товара).

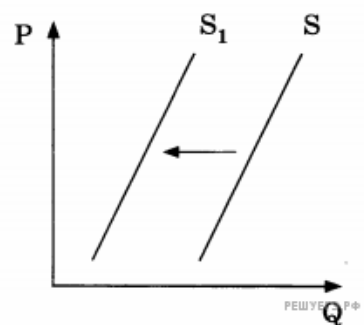
Какие из перечисленных факторов могут вызвать такое изменение? Запишите цифры, под которыми они указаны.



1. Повышение выплат после наступления страховых случаев
2. Закрытие нескольких страховых компаний
3. Введение обязательного страхования автогражданской ответственности
4. Увеличение числа страховых компаний
5. Снижение доходов потребителей

21. На графике отражено изменение предложения местных сезонных ягод на соответствующем рынке: кривая предложения переместилась из положения  $S$  в положение  $S_1$  (на графике  $P$  — цена товара,  $Q$  — количество товара).

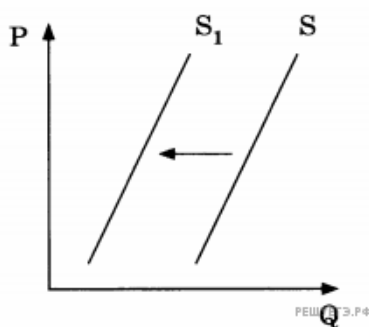
Какие из перечисленных факторов могли вызвать такое изменение?



1. Уменьшение издержек производителей сезонных ягод
2. Повышение доходов потребителей
3. Снижение пошлин на ввозимые сезонные ягоды и фрукты
4. Низкий урожай местных сезонных ягод
5. Уменьшение стоимости электроэнергии и водоснабжения

22. На графике отражено изменение предложения гречневой крупы на соответствующем рынке: кривая предложения переместилась из положения  $S$  в положение  $S_1$  (на графике  $P$  — цена товара,  $Q$  — количество товара).

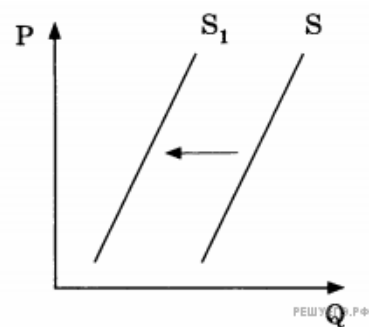
Какие из перечисленных факторов могли вызвать такое изменение?



1. Увеличение доходов потребителей
2. Засуха и гибель урожая
3. Предоставление льготных кредитов производителям
4. Повышение цен на энергоносители
5. Увеличение посадочных площадей

23. На графике отражена ситуация на рынке кондитерских изделий: кривая предложения переместилась из положения  $S$  в положение  $S_1$  (на графике  $P$  — цена товара,  $Q$  — количество товара).

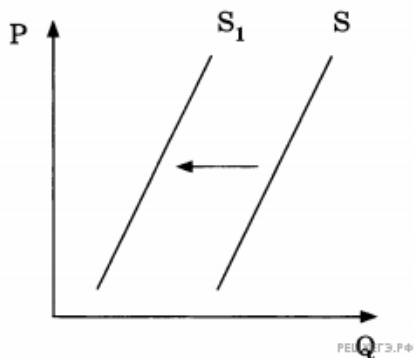
Какие из перечисленных факторов могли вызвать такое изменение?



1. Неурожай какао-бобов
2. Увеличение доходов потребителей
3. Выдача льготных кредитов кондитерским предприятиям
4. Повышение акцизов на сахар и какао-бобы
5. Закрытие ряда кондитерских фабрик

24. На графике отражено изменение предложения школьно-письменных принадлежностей на соответствующем рынке: кривая предложения переместилась из положения  $S$  в положение  $S_1$  (на графике  $P$  — цена товара,  $Q$  — количество товара).

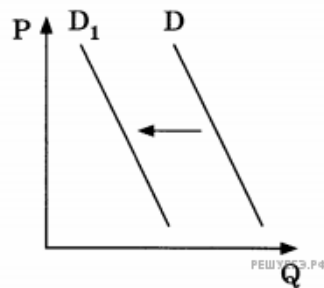
Какие из перечисленных факторов могли вызвать такое изменение?



1. Снижение стоимости используемого сырья
2. Увеличение общего числа школьников
3. Завершение учебного года
4. Увеличение числа предприятий в отрасли
5. Удорожание сырья и электроэнергии



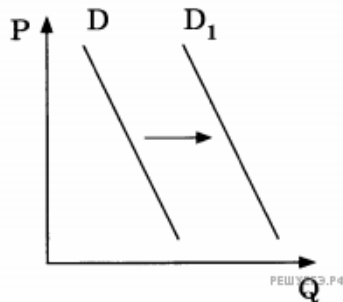
25. На графике отражено изменение спроса на услуги коммерческих медицинских центров на соответствующем рынке: кривая спроса переместилась из положения  $D$  в положение  $D_1$  (на графике  $P$  — цена товара,  $Q$  — количество товара).  
Какие из перечисленных факторов могли вызвать такое изменение?



1. Рост ассортимента, качества и доступности услуг муниципальных медицинских учреждений
2. Активная реклама услуг коммерческих центров
3. Падение доходов населения
4. Увеличение числа частных медицинских центров
5. Снижение цен на лекарства, отпускаемые по рецепту врача

26. На графике отражена ситуация на рынке компьютерной техники. Фирма-производитель предложила потребителям новую модель ноутбуков небольшого размера и веса: кривая спроса переместилась из положения  $D$  в положение  $D_1$  (на графике  $P$  — цена товара,  $Q$  — количество товара).

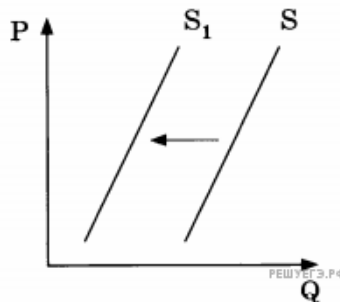
Какие из перечисленных факторов могли вызвать такое изменение?



- 1) Многие потребители предпочитают обновлять используемую технику по мере выхода ее новых моделей.
- 2) Потребители не разобрались в возможностях новой модели ноутбуков.
- 3) Среди фирм-производителей отсутствует реальная конкуренция.
- 4) Фирма-производитель завысила цену ноутбуков до неприемлемого для многих потребителей уровня.
- 5) Потребители отреагировали на интенсивную рекламу нового товара.

27. На графике отражено изменение предложения бытовой техники на соответствующем рынке: кривая предложения переместилась из положения  $S$  в положение  $S_1$  (на графике  $P$  — цена товара,  $Q$  — количество товара).

Какие из перечисленных факторов могли вызвать такое изменение?



1. Увеличение доходов производителей бытовой техники
2. Увеличение цен на исходные комплектующие
3. Банкротство нескольких компаний-производителей бытовой техники
4. Уменьшение налога на аренду производственных мощностей
5. Повышение цен на транспортные услуги