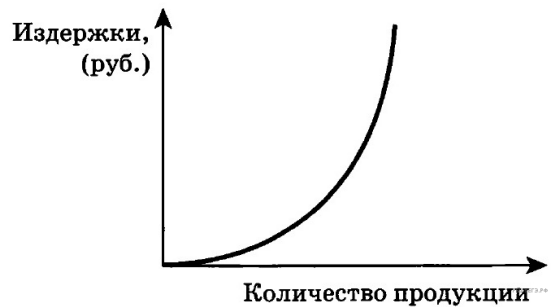


1. Выберите статьи затрат, которые могут быть отражены следующим графиком издержек в краткосрочном периоде.



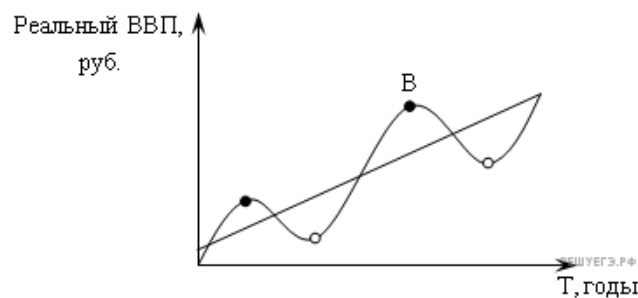
- 1) сдельная зарплата рабочих
- 2) зарплата аппарата управления
- 3) плата за электроэнергию
- 4) транспортные расходы

2. Выберите статьи затрат, которые могут быть отражены следующим графиком издержек в краткосрочном периоде.



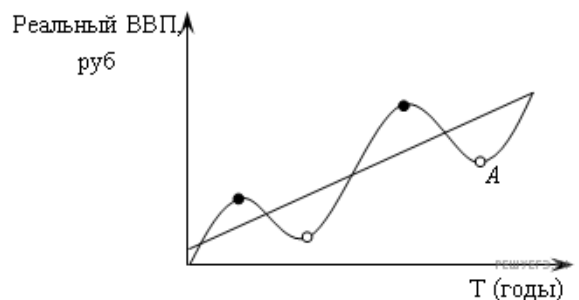
1. Плата за материалы
2. Плата за здание
3. Сдельная заработная плата рабочих
4. Зарплата сторожа
5. Зарплата бухгалтера

3. Какой ситуации соответствует положение точки В на графике экономического цикла:



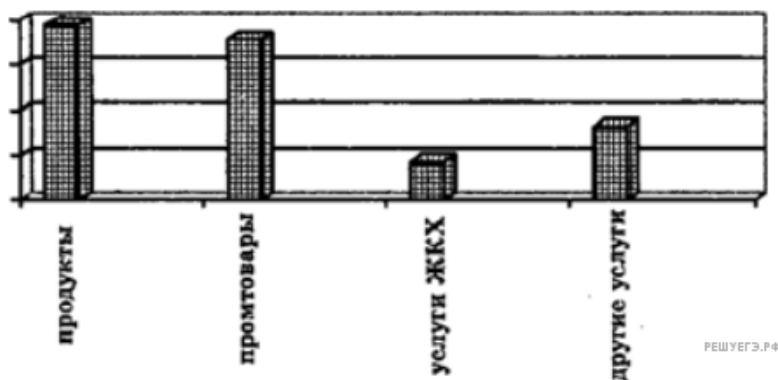
- 1) высокая инфляция
- 2) высокая безработица
- 3) падение курса акций
- 4) банкротство предприятий

4. Какой ситуации соответствует положение точки А на графике экономического цикла?



1. Низкая безработица
2. Открытие новых предприятий
3. Банкротство предприятий
4. Эффективное использование ресурсов

5. Рассмотрите диаграмму «Расходы семейного бюджета в Российской Федерации в 2008 году (в %)



Какие выводы можно сделать на основании данных диаграммы?

- 1) Среди расходов семейного бюджета в Российской Федерации в 2008 году доминируют выплаты по счетам жилищно-коммунального хозяйства.
- 2) В 2008 году в Российской Федерации расходы потребителей на промышленные товары в структуре семейного бюджета выше, чем расходы на продукты.
- 3) Процент расходов на продукты выше, чем значение любой другой категории расходов в структуре семейного бюджета в Российской Федерации в 2008 году.
- 4) Более половины расходов семейного бюджета в Российской Федерации в 2008 году составляет оплата услуг ЖКХ и других услуг.
- 5) Среди расходов семейного бюджета в Российской Федерации в 2008 году не доминируют выплаты по счетам жилищно-коммунального хозяйства.

6. В течение 2000 – 2010 гг. служба экономического прогнозирования города М. проводила исследование рынка загородной недвижимости. Изучались данные о продажах загородных объектов в крупных агентствах.

В результате проведенного исследования был составлен график (в %).

Какие выводы можно сделать на основании данной графической информации?

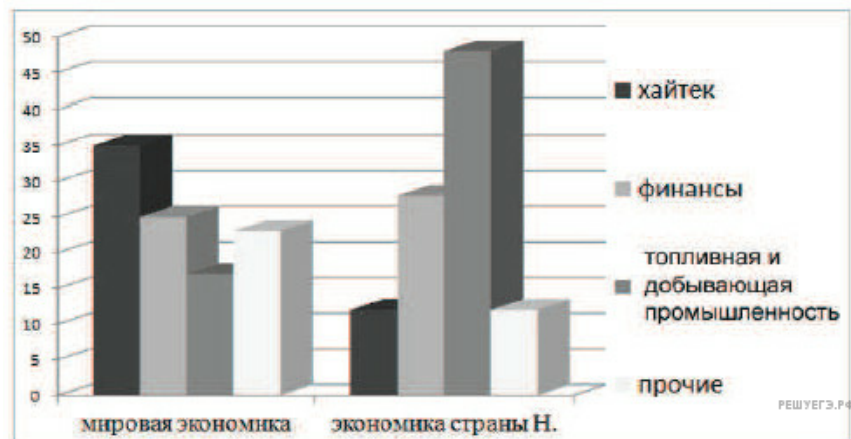


- 1) аутсайдером продаж в 2010 г. стала элитная недвижимость
- 2) особую популярность у граждан приобрели таунхаузы, которые вышли в лидеры продаж
- 3) в связи со снижением доходов, по всем сегментам рынка упал спрос
- 4) активизировались на рынке граждане со средними доходами, приобретающие летние коттеджи далеко от города
- 5) тенденцию устойчивого роста продемонстрировал спрос на элитную загородную недвижимость

7. Аналитический центр Министерства экономического развития страны Н. провёл сравнительное исследование структуры мировой экономики и экономики национальной. В фокусе внимания исследователей было выявление доли различных отраслей в структуре обеих экономик.

Результаты проведённого исследования были обобщены и представлены на диаграмме.

Сравнение структуры мировой экономики и экономики страны Н.



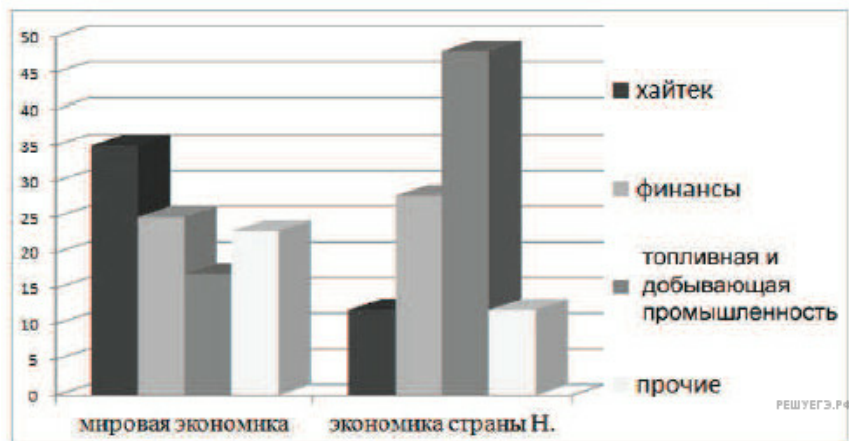
Какой вывод непосредственно следует из приведённой информации?

- 1) В лидерах развития в мировой экономике - энергетическая отрасль.
- 2) Для экономики страны Н. характерно приоритетное внедрение наукоёмких технологий.
- 3) Страна Н. поставляет на мировой рынок топливные ресурсы и сырьё мировой экономики.
- 4) Финансы и отрасли хайтек - ведущие в структуре экономики страны Н.
- 5) В лидерах развития в мировой экономике - хайтек.

8. Аналитический центр Министерства экономического развития страны Н. провёл сравнительное исследование структуры мировой экономики и экономики национальной. В фокусе внимания исследователей было выявление доли различных отраслей в структуре обеих экономик.

Результаты проведённого исследования были обобщены и представлены на диаграмме.

Сравнение структуры мировой экономики и экономики страны Н.



Какой вывод непосредственно следует из приведённой информации?

- 1) В лидерах развития в мировой экономике - энергетическая отрасль.
- 2) Для экономики страны Н. характерно приоритетное внедрение наукоёмких технологий.
- 3) Страна Н. поставляет на мировой рынок топливные ресурсы и сырьё мировой экономики.
- 4) Финансы и отрасли хайтек - ведущие в структуре экономики страны Н.