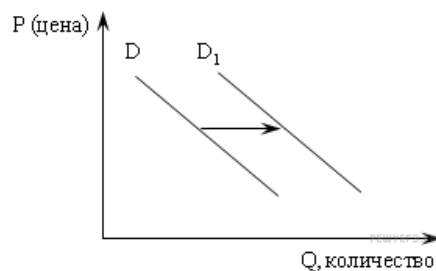


1. На рисунке отражена ситуация на рынке строительных услуг: линия спроса D переместилась в новое положение D_1 (P — цена товара, Q — объем спроса товара).

Это перемещение может быть связано прежде всего

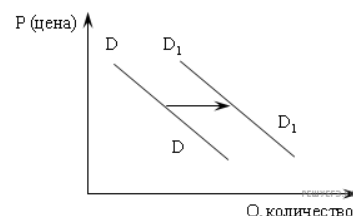
- 1) с ожиданиями экономического подъема
- 2) с завершением отпускного сезона
- 3) с увеличением доходов потребителей
- 4) с ростом числа строительных фирм



2. На рисунке отражена ситуация на рынке строительных материалов: линия спроса D переместилась в новое положение D_1 (P — цена товара, Q — величина спроса товара).

Изменение спроса может быть вызвано прежде всего

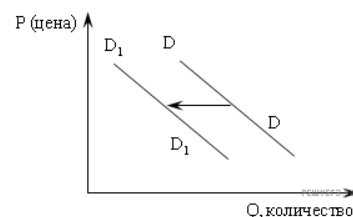
- 1) ростом числа производителей строительных материалов
- 2) введением нового налога на производителей
- 3) совершенствованием технологии
- 4) ожиданием повышения цен на строительные материалы
- 5) с ростом доходов населения



3. На рисунке отражена ситуация на рынке телевизоров с плазменным экраном: линия спроса D переместилась в новое положение D_1 (P — цена товара, Q — величина спроса товара).

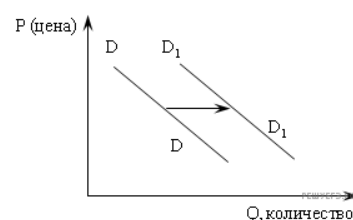
Чем, в первую очередь, может быть вызвано такое изменение спроса?

1. Уменьшением числа производителей телевизоров
2. Изменением технологии производства плазменных экранов
3. Снижением доходов потребителей
4. Распространившимися среди населения слухами о вреде для здоровья плазменных телевизоров
5. Усилением конкуренции товаропроизводителей



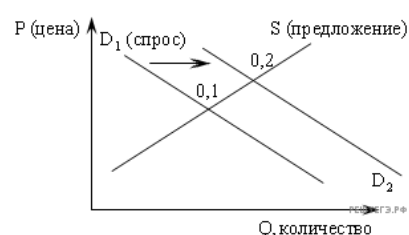
4. На рисунке отражена ситуация на рынке автомобилей: линия спроса D переместилась в новое положение D_1 (P — цена товара, Q — величина спроса товара).

1. Ростом доходов населения
 2. Введением единого налога для производителей
 3. Снижением цен за проезд в автобусах и троллейбусах
 4. Увеличением объема услуг общественного транспорта
- Чем вызвано данное изменение?



5. Из приведенного ниже списка выберите ситуацию, которая может быть отражена следующим графиком.

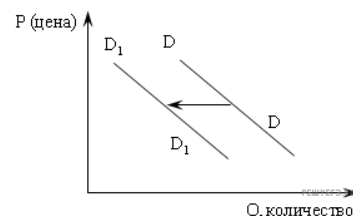
- 1) повышение налога на продавцов данного товара
- 2) снижение выручки продавца
- 3) снижение количества проданного товара
- 4) повышение равновесной цены товара



6. На рисунке отражена ситуация на рынке табачных изделий: линия спроса D переместилась в новое положение D_1 (P — цена товара, Q — величина спроса товара).

Падение спроса на табачные изделия может быть вызвано прежде всего

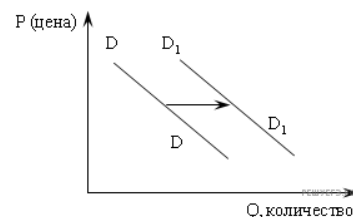
- 1) ростом доходов производителей табака
- 2) изменением предпочтений людей
- 3) совершенствованием технологии производства табачных изделий
- 4) усилением конкуренции производителей
- 5) пропагандой здорового образа жизни



7. На рисунке отражена ситуация на рынке мобильных телефонов: линия спроса D переместилась в новое положение D_1 (P — цена товара, Q — величина спроса товара).

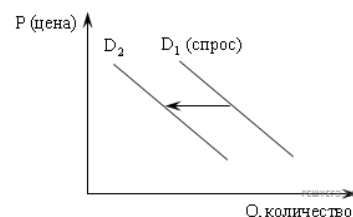
Перемещение кривой спроса D в новое положение D_1 может быть вызвано прежде всего

- 1) усилением конкуренции производителей
- 2) резким подорожанием абонентской платы на стационарные телефонные точки
- 3) совершенствованием технологии производства мобильных телефонов
- 4) ростом доходов потребителей
- 5) уменьшением издержек производства



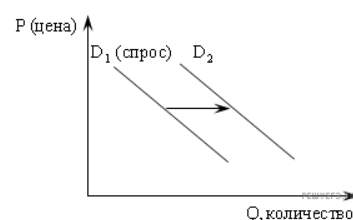
8. Из приведенного ниже списка выберите ситуации, которые могут быть отражены следующим графиком.

- 1) спрос на кондиционеры при росте доходов покупателей
- 2) спрос на лыжи и коньки по окончании зимнего сезона
- 3) спрос на средиземноморские курорты в условиях политической нестабильности в этих регионах
- 4) спрос на корм для кошек после удачной рекламы этого корма на ТВ
- 5) спрос на детские коляски при «бэби-буме»

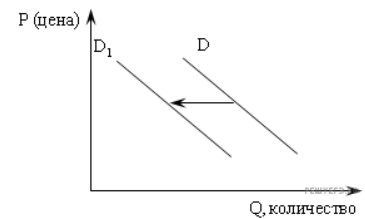


9. Из приведенного ниже списка выберите ситуации, которые могут быть отражены следующим графиком.

1. Спрос на бытовую технику при снижении доходов покупателей
2. Спрос на учебники при демографическом спаде
3. Спрос на билеты на самолет после ледяного дождя в аэропорту
4. Спрос на программное обеспечение после снижения цен на компьютеры
5. Спрос на бытовую технику при повышении доходов покупателей

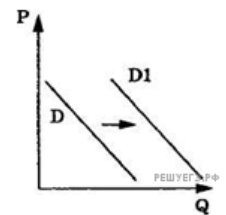


10. На рисунке отражено изменение спроса на услуги частных клиник на соответствующем рынке (линия спроса D переместилась в новое положение D_1). (P — цена товара, Q — количество товара.)



- 1) снижением налогов с частных клиник
- 2) активной рекламой средств нетрадиционной медицины
- 3) закрытием ряда муниципальных клиник
- 4) увеличением числа частных клиник
- 5) улучшением качества обслуживания в государственных медицинских учреждениях

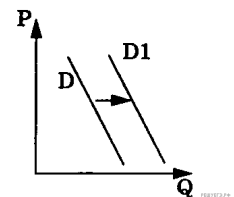
11. На рисунке отражены изменения спроса на кухонную мебель на соответствующем рынке (линия спроса D переместилась в новое положение D_1). (P — цена товара, Q — количество товара.)



Это перемещение может быть связано с

- 1) совершенствованием технологии производства кухонной мебели
- 2) уменьшением издержек производителей кухонной мебели
- 3) с распространением слухов на повышение цен на мебель в ближайшем будущем
- 4) увеличением доходов населения
- 5) увеличением объема транспортных услуг

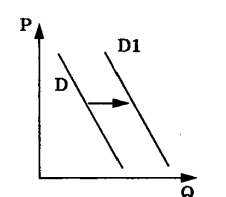
12. На рисунке отражено изменение спроса на джинсовую одежду на соответствующем рынке (линия спроса D переместилась в новое положение D_1). (P — цена товара, Q — количество товара.)



Это перемещение может быть связано со (с)

- 1) снижением доходов потребителей
- 2) модой на джинсовую одежду
- 3) мощной рекламной кампанией о достоинствах и преимуществах джинсовой одежды с привлечением известных актеров, спортсменов
- 4) повышением цен на энергоносители
- 5) увеличением таможенных пошлин на импортную одежду

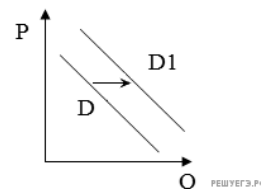
13. На рисунке отражены изменения спроса на легковые автомобили на соответствующем рынке (линия спроса D переместилась в новое положение D_1). (P — цена товара, Q — количество товара.)



Это перемещение связано, в первую очередь, с

- 1) совершенствованием технологии производства автомобилей
- 2) уменьшением издержек производителей автомобилей
- 3) увеличением объема услуг общественного транспорта
- 4) увеличением доходов населения

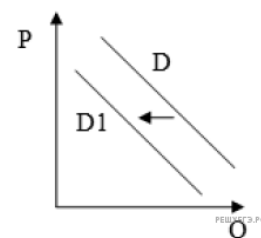
14. На рисунке отражена ситуация на рынке мобильных телефонов и гаджетов: линия спроса D переместилась в новое положение $D1$. (P – цена товара, Q – объем спроса товара)



Это перемещение может быть связано, прежде всего, с (со)

- 1) проведением широкомасштабных распродаж и бонусных акций
- 2) повышением цен на новые модели
- 3) закрытием заводов по производству комплектующих
- 4) повышением пошлин на ввоз импортной электронной техники
- 5) повышение абонентской платы на стационарные телефоны

15. На рисунке отражена ситуация на рынке общественного питания: линия спроса на услуги ресторанов и кафе японской кухни D переместилась в новое положение $D1$ (P – цена товара, Q – объем спроса товара).

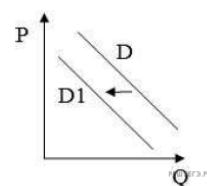


Это перемещение может быть связано, прежде всего, с

- 1) повышением таможенных пошлин на ввоз морепродуктов
- 2) повышением цен на суши и роллы
- 3) удешевлением продуктов для производства суши
- 4) ростом доходов потребителей

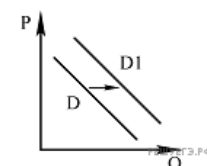
16. На рисунке отражена ситуация на рынке стационарных компьютеров: линия спроса D переместилась в новое положение $D1$.

(P – цена товара, Q – объем спроса товара) Это перемещение может быть связано прежде всего с (со)



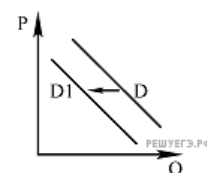
- 1) ростом числа продавцов компьютеров на рынке
- 2) переходом многих пользователей на ноутбуки и нетбуки
- 3) снижением пошлин на ввоз комплектующих для стационарных компьютеров
- 4) освоением новых технологий производства компьютеров

17. На рисунке отражена ситуация на рынке инвентаря p для зимних видов спорта: линия спроса D переместилась в новое положение — $D1$ (P — цена товара, Q — объем спроса товара). Это перемещение может быть связано, прежде всего, с (со)



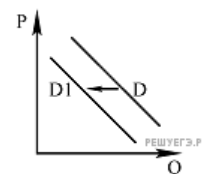
- 1) популяризацией зимних видов спорта
- 2) затяжной оттепелью в зимний период
- 3) снижением доходов населения
- 4) развитием сети фитнес-клубов

18. На рисунке отражена ситуация на рынке стационарных компьютеров: линия спроса D переместилась в новое положение — $D1$ (P — цена товара, Q — количество товара). Это перемещение может быть связано, прежде всего, с



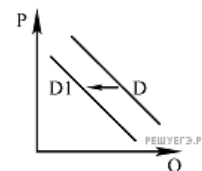
- 1) ростом доходов населения
- 2) разработкой новых компьютерных программ
- 3) высоким уровнем компьютеризации
- 4) широким распространением ноутбуков

19. На рисунке отражена ситуация на рынке парикмахерских услуг: линия спроса D переместилась в новое положение — $D1$ (P — цена услуг, Q — количество услуг). Это перемещение может быть связано, прежде всего, с



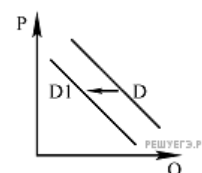
- 1) увеличением количества салонов красоты
- 2) существенным снижением доходов населения
- 3) модой на сложные причёски у женщин
- 4) увеличением доходности салонов красоты

20. На рисунке отражена ситуация на рынке товаров для детей: линия спроса D переместилась в новое положение — $D1$ (P — цена товара, Q — объём спроса товара). Это перемещение может быть связано, прежде всего, с (со)



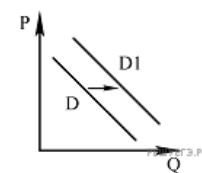
- 1) ростом доходов населения
- 2) снижением цен на товары для детей
- 3) снижением рождаемости
- 4) реализацией программ поддержки семьи

21. На графике отражена ситуация на рынке мяса и мясных продуктов: линия спроса D переместилась в новое положение — $D1$ (P — цена товара, Q — количество товара). Это перемещение может быть связано, прежде всего, с (со)



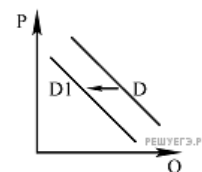
- 1) увеличением доходов потребителей
- 2) ростом числа производителей мясных продуктов
- 3) распространением вегетарианства среди потребителей
- 4) снижением налогов с производителей мясных продуктов

22. На рисунке отражена ситуация на рынке кисломолочных продуктов (P — цена товара, Q — количество товара). Проанализируйте изменение спроса (линия спроса D переместилась в положение $D1$). Чем может объясняться подобное изменение?



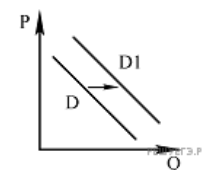
1. Снижением доходов потребителей
2. Увеличением количества фирм-производителей
3. Пропагандой здорового питания
4. Снижением прибыли фирм-производителей

23. На рисунке отражена ситуация на рынке стройматериалов (P — цена товара, Q — количество товара). Проанализируйте изменение спроса (линия спроса D переместилась в положение $D1$). Чем может объясняться подобное изменение?



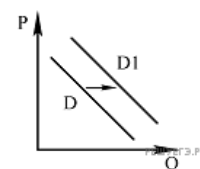
1. Ростом цен на услуги по ремонту квартир
2. Увеличением количества строительных фирм
3. Снижением налогов с производителей стройматериалов
4. Увеличением доходов граждан

24. На рисунке отражена ситуация на рынке услуг мобильной связи (P — цена, Q — количество услуг). Ряд компаний-операторов предложили потребителям новую услугу. Проанализируйте изменение спроса на неё (линия спроса D переместилась в положение $D1$). Какой из приведённых ниже выводов непосредственно следует из данных графиков?



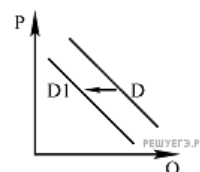
- 1) Потребители оценили полезность новой услуги.
- 2) Компании-операторы неверно установили цену услуги, это отпугнуло потребителей.
- 3) Доходы населения существенно сократились.
- 4) Компании-операторы не смогли обеспечить высокое качество предлагаемой услуги.

25. На рисунке отражена ситуация на рынке косметологических услуг: линия спроса D переместилась в новое положение — $D1$ (P — цена услуг, Q — объём спроса услуг). Это перемещение может быть связано, прежде всего, со (с)



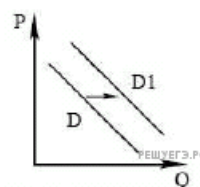
- 1) снижением уровня культуры граждан
- 2) повышением уровня и качества жизни населения
- 3) высокими ценами на косметические средства
- 4) недостаточной популяризацией здорового образа жизни

26. На графике изображено изменение спроса на печатные книги. Что из приведённого ниже могло вызвать сдвиг кривой спроса из положения D в положение $D1$? На графике P — цена товара, Q — количество товара.



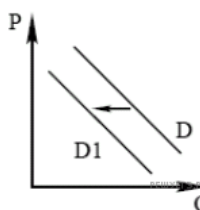
1. Увеличившийся выпуск электронных книг
2. Увеличение доходов населения
3. Начало учебного года
4. Повышение уровня грамотности населения

27. На графике отражено изменение ситуации на рынке сельскохозяйственной техники. Что из приведённого ниже могло вызвать сдвиг кривой спроса из положения D в положение $D1$? (На графике P — цена товара, Q — количество товара.)



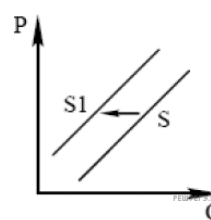
- 1) повышение цен на горюче-смазочные материалы
- 2) расширение посевных площадей
- 3) снижение цен на продукцию сельского хозяйства
- 4) повышение налогов для сельхозпроизводителей

28. На графике отражено изменение ситуации на рынке горнолыжного снаряжения. Что из приведённого ниже могло вызвать сдвиг кривой спроса из положения D в положение $D1$? (На графике P — цена товара, Q — количество товара.)



- 1) рост числа магазинов, торгующих спортивными товарами
- 2) рост числа горнолыжных курортов
- 3) рост популярности других зимних видов спорта
- 4) рост доходов населения

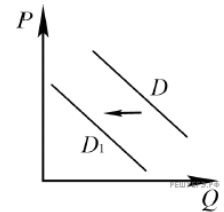
29. На графике отражено изменение ситуации на рынке солнцезащитных средств. Что из приведённого ниже могло вызвать сдвиг кривой предложения из положения S в положение $S1$? (На графике P — цена товара, Q — количество товара.)



- 1) наступление осеннего сезона
- 2) рост числа потребителей, регулярно посещающих солярии
- 3) кампания на тему опасности прямых солнечных лучей
- 4) начало сезона отпусков

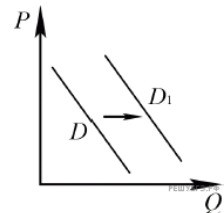
30. На рисунке отражено изменение спроса на инвентарь для зимних видов спорта (беговые лыжи, коньки, сноуборды и проч.): линия спроса D переместилась в новое положение — D_1 .

(P — цена; Q — количество.) Это перемещение может быть связано, прежде всего, с



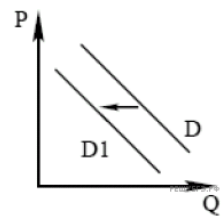
- 1) популяризацией зимних видов спорта
- 2) открытием новых лыжных центров
- 3) началом предоллимпийского сезона
- 4) наступлением весны

31. На рисунке отражено изменение спроса на спортивные тренажёры для дома: линия спроса D переместилась в новое положение — D_1 . (P — цена; Q — количество.) Это перемещение может быть связано, прежде всего, с (со)



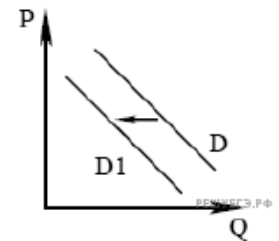
- 1) повышением внимания граждан к собственному здоровью
- 2) открытием новых тренажёрных залов и фитнес-клубов
- 3) повышением уровня инфляции
- 4) снижением доходов потребителей

32. На графике изображено изменение спроса на мороженное. Что из приведённого ниже могло вызвать сдвиг кривой спроса из положения D в положение D_1 ? На графике P — цена товара, Q — количество товара.



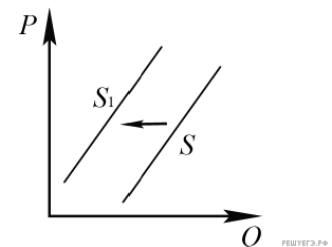
1. Удешевление технологии производства
2. Наступление холодного сезона
3. Рост налогов на производителей
4. Повышение доходов населения

33. На графике отражено изменение ситуации на рынке услуг салонов красоты. Что из приведённого ниже могло вызвать сдвиг кривой спроса из положения D в положение D_1 ? (На графике P — цена товара, Q — количество товара.)



- 1) увеличение количества салонов красоты
- 2) существенное снижение доходов населения
- 3) снижение ассортимента косметических товаров в розничных магазинах
- 4) приближение летнего сезона

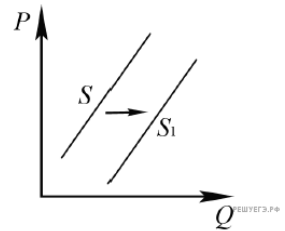
34. На рисунке отражено изменение предложения школьно-письменных принадлежностей на соответствующем рынке: линия предложения S переместилась в новое положение — S_1 . (P — цена товара; Q — количество товара.) Это перемещение может быть связано с



- 1) увеличением количества предприятий в отрасли
- 2) увеличением общего числа школьников
- 3) внедрением новых технологий производства
- 4) увеличением налогов с предприятий отрасли

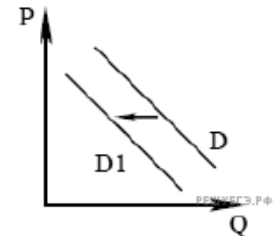
35. На рисунке отражено изменение ситуации на рынке кухонной мебели: линия предложения S переместилась в новое положение – S_1 . (P – цена; Q – количество.) Это перемещение может быть связано, прежде всего, с (со)

- 1) ростом затрат производителей кухонной мебели
- 2) увеличением количества производителей кухонной мебели
- 3) снижением доходов потребителей
- 4) повышением пошлин на импортные комплектующие



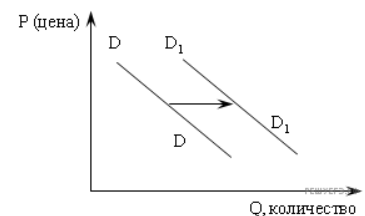
36. На графике отражено изменение ситуации на рынке услуг салонов красоты. Что из приведённого ниже могло вызвать сдвиг кривой спроса из положения D в положение D_1 ? (На графике P – цена товара, Q – количество товара.)

- 1) увеличение количества салонов красоты
- 2) существенное снижение доходов населения
- 3) снижение ассортимента косметических товаров в розничных магазинах
- 4) приближение летнего сезона



37. На графике изображено изменение спроса на отечественном автомобильном рынке: линия спроса D переместилась в новое положение D_1 (P — цена автомобиля, Q — объём спроса на отечественные машины). Это перемещение может быть связано в первую очередь с

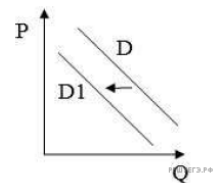
- 1) модернизацией автомобильной отрасли в стране
- 2) увеличением транспортного налога
- 3) увеличением доходов населения
- 4) экономическим кризисом



38. На рисунке отражена ситуация на рынке стационарных компьютеров: линия спроса D переместилась в новое положение D_1 .

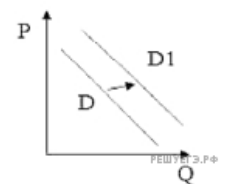
(P – цена товара, Q – объём спроса товара) Это перемещение может быть связано прежде всего с (со)

- 1) ростом числа продавцов компьютеров на рынке
- 2) переходом многих пользователей на ноутбуки и нетбуки
- 3) снижением пошлин на ввоз комплектующих для стационарных компьютеров
- 4) освоением новых технологий производства компьютеров

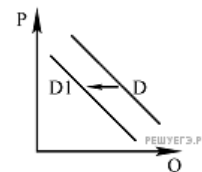


39. На рисунке отражена ситуация на рынке одежды этнического стиля: линия спроса D переместилась в новое положение D_1 . (P – цена товара, Q – объём спроса товара.) Это перемещение может быть связано прежде всего с (со)

- 1) рекламой одежды европейских модельеров
- 2) снижением пошлин на ввоз импортных тканей
- 3) снижением потребительских доходов
- 4) тем, что в текущем сезоне в моде экзотическая одежда

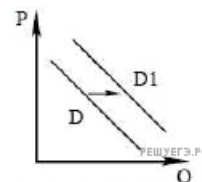


40. На графике изображено изменение спроса на печатные книги. Что из приведённого ниже могло вызвать сдвиг кривой спроса из положения D в положение $D1$? На графике P — цена товара, Q — количество товара.



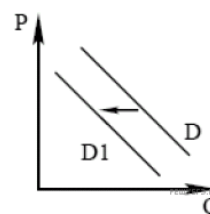
1. Увеличившийся выпуск электронных книг
2. Увеличение доходов населения
3. Начало учебного года
4. Повышение уровня грамотности населения

41. На графике отражено изменение ситуации на рынке сельскохозяйственной техники. Что из приведённого ниже могло вызвать сдвиг кривой спроса из положения D в положение $D1$? (На графике P — цена товара, Q — количество товара.)



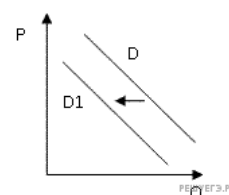
- 1) повышение цен на горюче-смазочные материалы
- 2) расширение посевных площадей
- 3) снижение цен на продукцию сельского хозяйства
- 4) повышение налогов для сельхозпроизводителей

42. На графике изображено изменение спроса на мороженное. Что из приведённого ниже могло вызвать сдвиг кривой спроса из положения D в положение $D1$? На графике P — цена товара, Q — количество товара.



1. Удешевление технологии производства
2. Наступление холодного сезона
3. Рост налогов на производителей
4. Повышение доходов населения

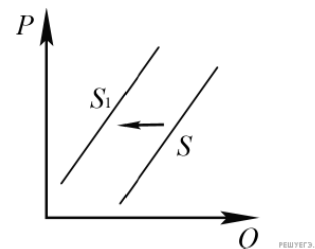
43. На рисунке отражена ситуация на рынке **стационарных компьютеров**: линия спроса D переместилась в новое положение $D1$. (P — цена товара, Q — объем спроса товара.)



Это перемещение может быть связано, прежде всего, с (со)

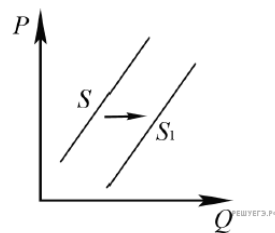
- 1) ростом числа продавцов компьютеров на рынке
- 2) переходом многих пользователей на ноутбуки и нетбуки
- 3) снижением пошлин на ввод комплектующих для стационарных компьютеров
- 4) существенным удешевлением системных блоков и мониторов

44. На рисунке отражено изменение предложения школьно-письменных принадлежностей на соответствующем рынке: линия предложения S переместилась в новое положение — $S1$. (P — цена товара; Q — количество товара.) Это перемещение может быть связано с



- 1) увеличением количества предприятий в отрасли
- 2) увеличением общего числа школьников
- 3) внедрением новых технологий производства
- 4) увеличением налогов с предприятий отрасли

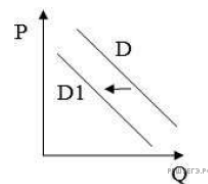
45. На рисунке отражено изменение ситуации на рынке кухонной мебели: линия предложения S переместилась в новое положение — S_1 . (P — цена; Q — количество.) Это перемещение может быть связано, прежде всего, с (со)



- 1) ростом затрат производителей кухонной мебели
- 2) увеличением количества производителей кухонной мебели
- 3) снижением доходов потребителей
- 4) повышением пошлин на импортные комплектующие

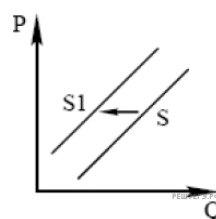
46. На рисунке отражена ситуация на рынке стационарных компьютеров: линия спроса D переместилась в новое положение D_1 .

(P — цена товара, Q — объём спроса товара) Это перемещение может быть связано прежде всего с (со)



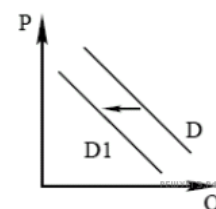
- 1) существенным удешевлением системных блоков и мониторов
- 2) широким распространением на рынке планшетных компьютеров, нетбуков, ноутбук
- 3) снижением пошлин на ввоз комплектующих для стационарных компьютеров
- 4) увеличением количества банковских филиалов и офисов компаний

47. На графике отражено изменение ситуации на рынке солнцезащитных средств. Что из приведённого ниже могло вызвать сдвиг кривой предложения из положения S в положение S_1 ? (На графике P — цена товара, Q — количество товара.)



- 1) наступление осеннего сезона
- 2) рост числа потребителей, регулярно посещающих солярии
- 3) кампания на тему опасности прямых солнечных лучей
- 4) начало сезона отпусков

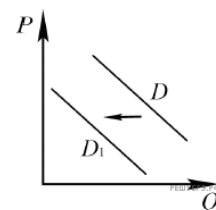
48. На графике отражено изменение ситуации на рынке горнолыжного снаряжения. Что из приведённого ниже могло вызвать сдвиг кривой спроса из положения D в положение D_1 ? (На графике P — цена товара, Q — количество товара.)



- 1) рост числа магазинов, торгующих спортивными товарами
- 2) рост числа горнолыжных курортов
- 3) рост популярности других зимних видов спорта
- 4) рост доходов населения

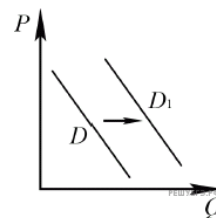
49. На рисунке отражено изменение спроса на инвентарь для зимних видов спорта (беговые лыжи, коньки, сноуборды и проч.): линия спроса D переместилась в новое положение — D_1 .

(P — цена; Q — количество.) Это перемещение может быть связано, прежде всего, с



- 1) популяризацией зимних видов спорта
- 2) открытием новых лыжных центров
- 3) началом предоллимпийского сезона
- 4) наступлением весны

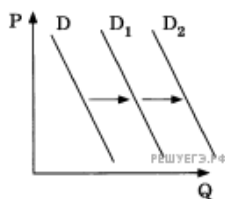
50. На рисунке отражено изменение спроса на спортивные тренажёры для дома: линия спроса D переместилась в новое положение — D_1 . (P — цена; Q — количество.) Это перемещение может быть связано, прежде всего, с (со)



- 1) повышением внимания граждан к собственному здоровью
- 2) открытием новых тренажёрных залов и фитнес-клубов
- 3) повышением уровня инфляции
- 4) снижением доходов потребителей

51. На графике отражена ситуация на рынке косметологических и парикмахерских услуг: кривая спроса переместилась из положения D в положение D_1 , а затем — D_2 (на графике P — цена товара, Q — количество товара).

Какие из перечисленных факторов могут вызвать такое изменение? Запишите цифры, под которыми они указаны.



1. Начало туристического сезона
2. Снижение доходов потребителей
3. Повышение налогообложения предприятий малого бизнеса
4. Интенсивная реклама косметических товаров для домашнего пользования
5. Мода на посещение салонов красоты