

1. В последнее время в России активно обсуждается вопрос, о том что внешний вид должен быть закреплён законодательно. При проведении социологического опроса на вопрос «Внешний вид — это личное дело каждого?» были получены следующие ответы:

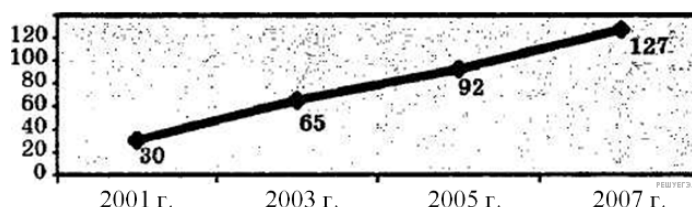
Ответ	%
А) Да, внешний вид — это личное дело каждого	1) 73%
Б) Нет, внешний вид должен быть регламентирован	2) 25%
В) Затрудняюсь ответить	3) 2%

(опубликовано: «Версия». 2011. № 3)

Согласны ли вы с результатами социологического опроса? Является ли законодательное закрепление внешнего вида нарушением прав человека? Свой ответ прокомментируйте.

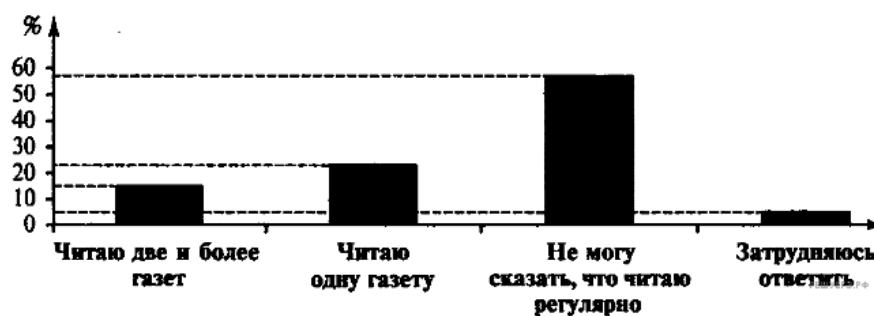
2. Социологи страны Z изучали тенденции развития института брака. Были получены следующие статистические данные о количестве разводов на каждую 1000 зарегистрированных браков:

Используя данные графика, сделайте вывод о тенденциях развития института брака в стране Z. Привлекая обществоведческие знания и личный социальный опыт, выскажите три предположения о причинах подобной тенденции.



3. Социологи опросили граждан страны Z. Им задавали вопрос: «Читаете ли вы регулярно какие-либо ежедневные газеты, и если да, сколько ежедневных газет вы регулярно читаете?»

Результаты опроса (в процентах от общего числа участников) представлены в диаграмме.



Сформулируйте вывод о результатах опроса. Выскажите три предположения о причинах подобного отношения граждан к чтению газет.

4. Нередки ссоры и конфликты между друзьями, связанными узами многолетней дружбы. Ученые-социологи опросили две группы людей (20–25-ти лет и 40–50-ти лет), задав им общий вопрос: **«Как вы обычно поступаете, если у вас с вашим другом, близким человеком произошла ссора?»**

Результаты опроса были обобщены и составлена диаграмма «Отношение к конфликтам и ссорам с друзьями» (%).

Укажите два основных различия в позициях респондентов в оценке конфликтов с друзьями. Приведите не менее двух объяснений данных различий.



5. В течение 15 лет проводились исследования по выявлению отношения россиян к ключевым ценностным установкам. Результаты представлены в таблице. Какой вывод можно сделать на основе представленных данных? Приведите три обоснования.

Отношение россиян к ключевым ценностным установкам (закрытый вопрос, доля респондентов, испытывающих к перечисленным понятиям положительные чувства), %

Ключевые ценностные установки	Март 2004	Март 2007	Апрель 2009
Порядок	61	58	58
Справедливость	53	49	52
Стабильность	40	38	49
Труд	33	31	40
Свобода	43	37	40
Успех	28	31	38
Достаток	30	37	37
Права человека	29	33	36
Русские	34	34	35
Патриотизм	40	35	34
Россия	23	28	28
Прогресс	12	15	18
Демократия	19	15	15

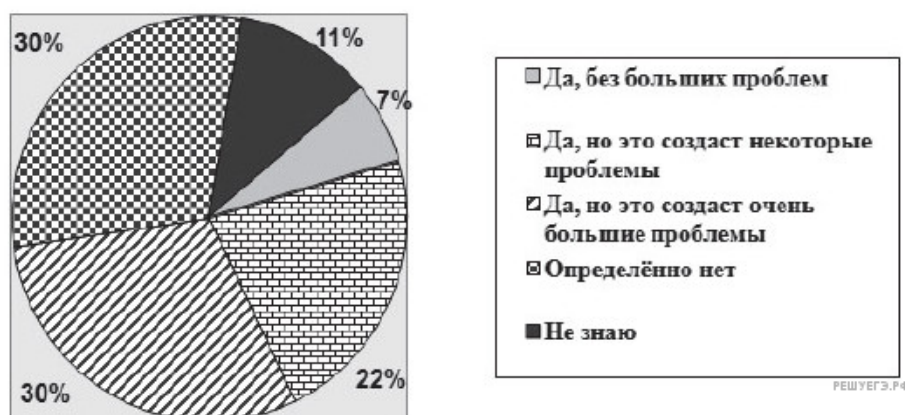
6. В ходе социологического опроса 2007 г. (Лавада-Центр) 1600 россиянам предлагалось ответить на вопрос о равноправии женщин и мужчин в современной России. Полученные результаты (отдельно по ответам двух групп: мужчины и женщины) представлены в графическом виде.
(Статистическая погрешность подобных опросов не превышает 3%.)



Сформулируйте любые три вывода на основе мнений о равноправии женщин и мужчин в российской федерации по результатам опроса. Приведите обоснование одного из сделанных выводов.

7. В ходе социологического опроса, проведённого службой изучения общественного мнения в разных регионах страны Н., респондентам предлагалось ответить на вопрос: «Может ли Ваша семья оплачивать услуги жилищно-коммунального хозяйства без предоставляемых государством дотаций и льгот?»

Полученные результаты представлены в виде диаграммы.



Сформулируйте любые три вывода, которые могут сделать учёные-социологи на основании результатов опроса.

Предложите, на основании полученных данных, любые три рекомендации разработчикам реформы жилищно-коммунального хозяйства в стране Н.

8. Социологи опросили граждан страны Z. Им задавали вопрос: «Читаете ли Вы регулярно какие-либо ежедневные газеты, и если да, сколько ежедневных газет Вы регулярно читаете?».

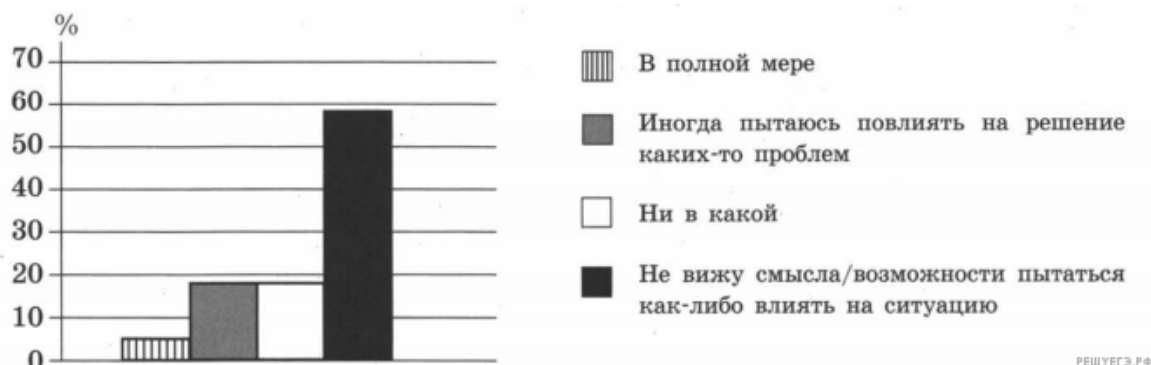
Полученные результаты (в % от числа опрошенных) представлены в виде диаграммы.



Сформулируйте вывод о результатах опроса. Выскажите три предположения о причинах подобного отношения граждан к чтению газет.

9. В 2014 г. совершеннолетним жителям населённого пункта Z учёные задавали вопрос: «В какой мере Вы чувствуете ответственность за то, что происходит у Вас в многоквартирном доме, во дворе/на улице, в населённом пункте, где Вы живёте?»

Полученные результаты (в % от числа опрошенных) представлены в виде диаграммы.



На основе результатов опроса сделайте вывод о развитии в Z местного самоуправления и обоснуйте его. Благоприятна ли подобная ситуация для развития населённого пункта Z? Объясните почему.