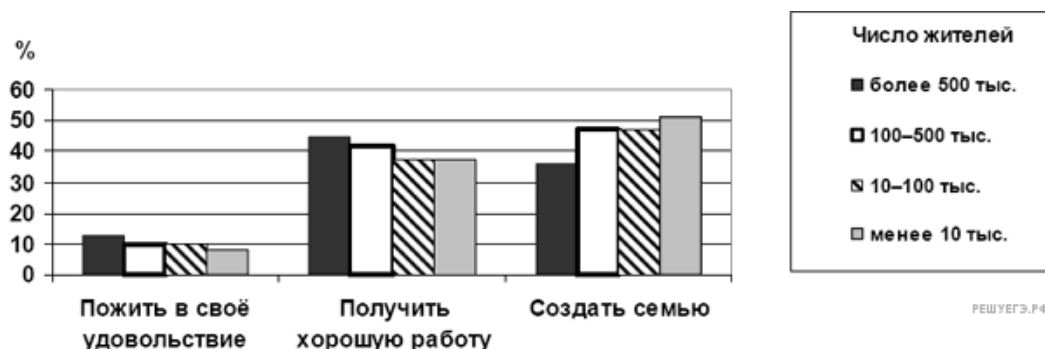
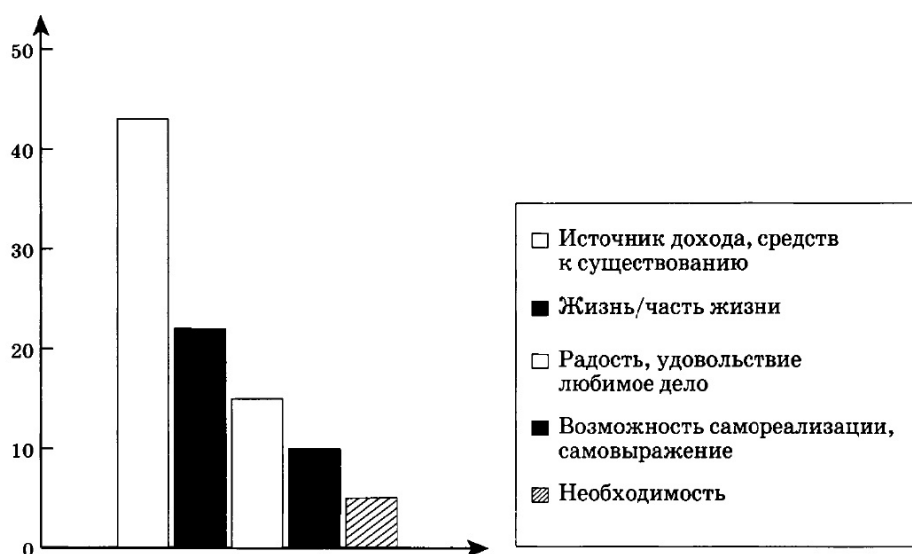


1. В ходе социологического опроса 2006 г. респондентам, проживающим в населённых пунктах различного типа, предлагалось ответить на вопрос: «Что важнее всего в молодости?» Полученные результаты представлены в виде гистограммы. Какой вывод можно сделать на основании гистограммы? Среди тех, кто считает, что в молодости важнее всего



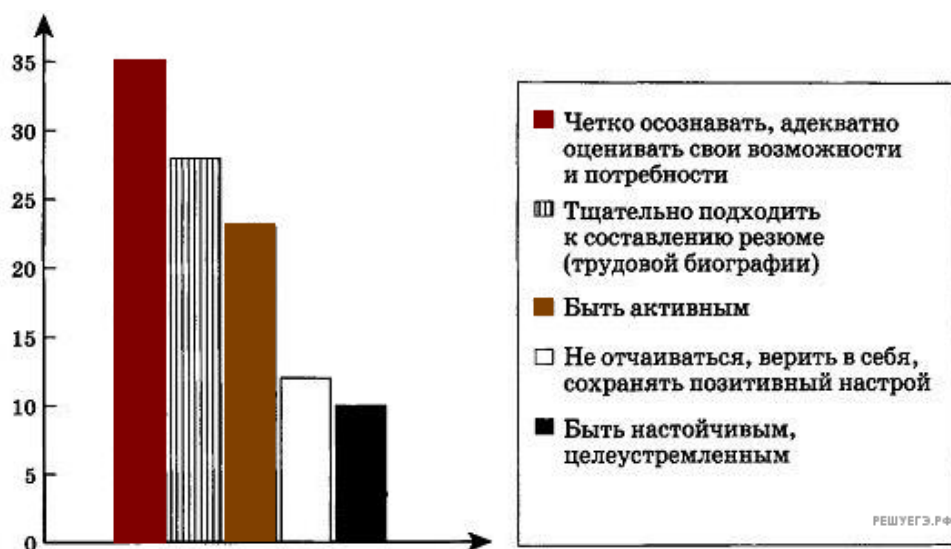
- 1) пожить в своё удовольствие, преобладают респонденты из пунктов с населением менее 10 тыс. человек
- 2) получить хорошую работу, преобладают респонденты из пунктов с населением 100–500 тыс. человек
- 3) создать семью, преобладают респонденты из пунктов с населением более 500 тыс. человек
- 4) создать семью, в равной мере представлены респонденты из пунктов с населением 10–100 тыс. и 100–500 тыс. человек

2. В ходе одного из социологических опросов был задан вопрос: «Чем является для вас работа?» Наиболее значимые ответы представлены в приведенной ниже диаграмме (в %). Какой вывод можно сделать на основании данных диаграммы?



- 1) Наибольшее число опрошенных считает работу возможностью самовыразиться и самореализоваться.
- 2) Для трети опрошенных работа — это часть жизни.
- 3) Наиболее популярно представление о работе как об источнике средств к существованию.
- 4) Трети опрошенных работа доставляет удовольствие.

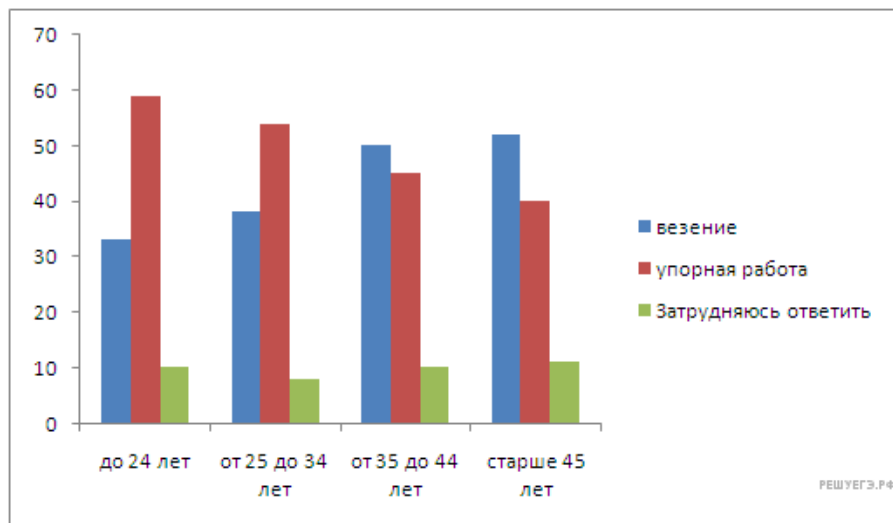
3. В ходе одного из социологических опросов обратились к менеджерам по персоналу и другим представителям кадровых служб предприятий и организаций: «Процесс поиска работы — занятие непростое, нередко требующее от соискателя значительных усилий и терпения. Какой совет Вы дали бы соискателям, чтобы их поиск работы стал максимально эффективным?»



Какой вывод можно сделать на основании данных диаграммы?

- 1) Подавляющее большинство опрошенных обратили внимание на важность активности в поисках работы.
- 2) Около трети опрошенных посоветовали четко осознать и правильно оценить свои возможности и потребности.
- 3) Наибольшее число отвечавших отметили тщательность составления резюме.
- 4) Около четверти опрошенных акцентировали внимание на важность позитивного настроения, веры в себя.

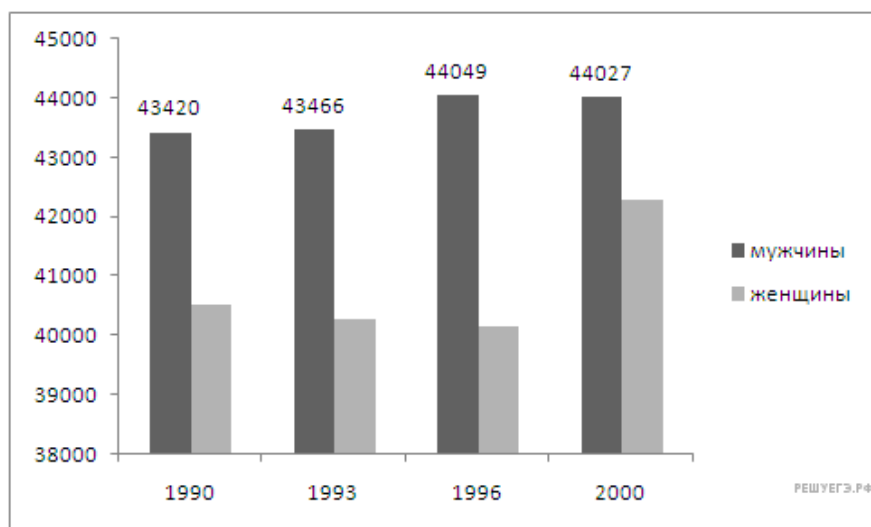
4. В ходе одного из интернет-опросов был задан вопрос: «Как Вы считаете, успешная карьера — это больше везение или упорная работа?» Результаты опроса представлены в приведенной ниже диаграмме (в %).



Какой вывод можно сделать на основании данных диаграммы?

- 1) Все возрастные категории опрошенных считают основной причиной успешной карьеры везение.
- 2) Число респондентов, считающих основной причиной успешной карьеры упорную работу, с возрастом увеличивается.
- 3) Подавляющее большинство отвечавших молодого возраста связывает успешную карьеру с упорной работой.
- 4) Респонденты старшего возраста одинаково важными причинами считают везение и упорную работу.

5. В последние десятилетия демографическая ситуация в Z вызывает большую озабоченность властей. Регулярно проводятся статистические исследования различных демографических аспектов, в том числе и возрастно-полового состава трудоспособного населения. Данные одного из исследований представлены в диаграмме.



Какой вывод можно сделать на основании данных диаграммы?

- 1) Число мужчин трудоспособного возраста в 2000 году больше, чем в 1990, 1993 и 1996 годах.
- 2) Число женщин трудоспособного возраста снижается из года в год.
- 3) Количество мужчин трудоспособного возраста растет быстрее, чем женщин.
- 4) Количество мужчин трудоспособного возраста растет медленнее, чем женщин.

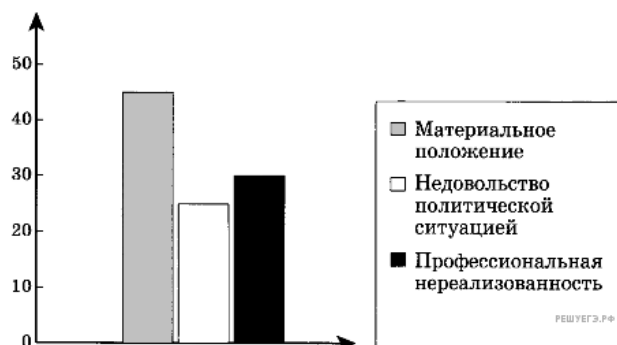
6. В ходе одного из интернет-опросов был задан вопрос: «На какие должности Вы предпочтете принять некурящего специалиста?» Результаты опроса представлены в приведенной ниже диаграмме.



Какой вывод можно сделать на основании данных диаграммы?

- 1) Предпочтение работодатели отдают некурящим офисным сотрудникам.
- 2) Наиболее важно для работодателей, чтобы не курили менеджеры по работе с клиентами.
- 3) Работодатели предпочитают некурящих бухгалтеров другим некурящим сотрудникам.
- 4) Подавляющее число опрошенных работодателей хотели бы видеть некурящими административный персонал.

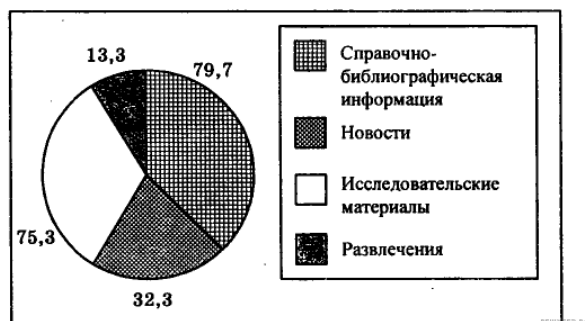
7. В ходе одного из интернет-опросов был задан вопрос: «Каковы, на Ваш взгляд, основные причины, заставляющие людей мигрировать?» Результаты опроса представлены в приведенной ниже диаграмме (в %).



Какой вывод можно сделать на основании данных диаграммы?

- 1) Главной причиной миграции, по мнению опрошенных, является материальное положение.
- 2) Одинаковое количество опрошенных назвали причиной миграции недовольство политической ситуацией и профессиональную нереализованность.
- 3) Опрошенных, назвавших в качестве причины миграции профессиональную нереализованность, меньшинство.
- 4) Большинство опрошенных связывают миграцию с недовольством политической ситуацией.


8. В последние годы резко возросло число пользователей Интернетом, что вызывает интерес у разработчиков сайтов, тематика которых должна отвечать запросам разных групп населения. В связи с этим в 2002 г. было проведено исследование запросов в сети Интернет ученых-обществоведов.



Какой вывод можно сделать на основании данных диаграммы?

- 1) Наибольший интерес у ученых-обществоведов вызывает справочно-библиографическая информация.
- 2) Наименьший интерес у ученых-обществоведов вызывает новостная информация.
- 3) Максимальное количество обращений связано с исследовательскими сайтами.
- 4) Среди интересов ученых-обществоведов сайты, связанные с развлечениями, находятся на третьем месте.

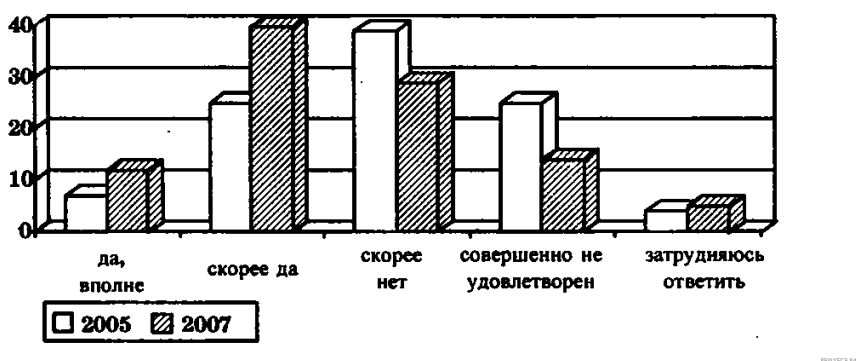
9. Сайт «Население в России» провел опрос мнений его посетителей по поводу собственного материального положения. Результаты представлены в приведенной ниже диаграмме.



Какой вывод можно сделать на основании данных диаграммы?

- 1) Материальное положение назвали хорошим более половины опрошенных.
- 2) Тяжелым, но терпимым считает свое положение четверть респондентов.
- 3) Десятая часть опрошенных не в состоянии терпеть тяготы, вызванные собственным материальным положением.
- 4) Респондентов, называющих свое материальное положение невыносимым, меньше, чем тех, кто назвал его тяжелым, но терпимым.

10. Ниже приведены данные опроса, проведенного Всероссийским центром изучения общественного мнения (ВЦИОМ). Респондентам был задан вопрос: «Удовлетворены ли вы качеством жилищно-коммунальных услуг?». Результаты опроса представлены в гистограмме.



Какой вывод можно сделать на основании представленных данных?

- 1) Как в 2005, так и в 2007 году среди всех категорий опрошенных доминировали респонденты, удовлетворенные качеством жилищно-коммунальных услуг.
- 2) Число респондентов, не удовлетворенных качеством жилищно-коммунальных услуг, к 2007 году уменьшилось.
- 3) Число респондентов, полностью удовлетворенных качеством жилищно-коммунальных услуг, в 2007 году составило треть опрошенных.
- 4) Число респондентов, удовлетворенных качеством жилищно-коммунальных услуг, в 2007 году меньше, чем в 2005.

11. Росстат опубликовал данные о причинах смертности в 2010 году. Они представлены в приведенной ниже диаграмме.

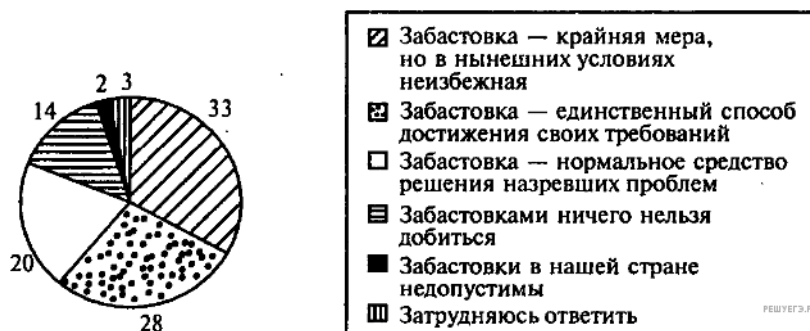


Какой вывод можно сделать на основании данных диаграммы?

- 1) Наиболее важный фактор риска для здоровья — болезни системы кровообращения.
- 2) В трети летальных случаев прослеживается связь с заболеваниями органов пищеварения.
- 3) Внешними по отношению к человеку причинами обусловлены около четверти смертных случаев.
- 4) Злокачественные образования привели к меньшему числу летальных исходов, чем болезни органов пищеварения.

12. Левада-Центр, занимающийся изучением общественного мнения в РФ, проводил социологический опрос на тему: «Какое из следующих мнений о забастовках вам ближе всего?» (Опрос 2004 г., 1600 человек.)

Полученные результаты (в процентах от общего числа участников) отражены в диаграмме.

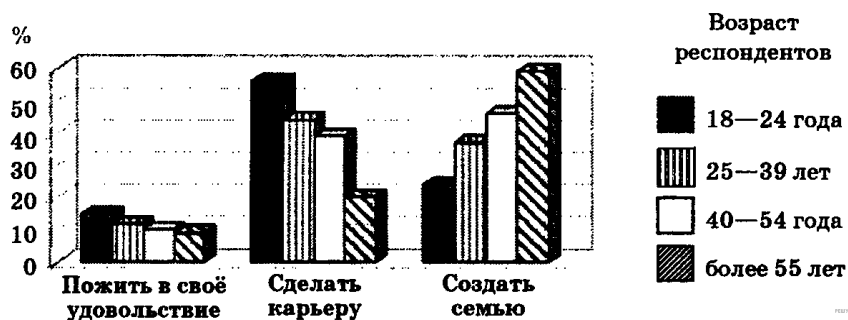


Какой вывод можно сделать на основании данных диаграммы?

- 1) Более половины опрошенных оправдывают забастовку как крайнюю меру.
- 2) Каждый пятый опрошенный думает, что забастовка — нормальное средство решения проблем.
- 3) Каждый третий опрошенный считает, что забастовками ничего нельзя добиться.
- 4) Каждый двадцатый опрошенный полагает, что забастовки в нашей стране недопустимы.

13. В ходе социологического опроса 2006 г. респондентам разных возрастных групп предлагалось ответить на вопрос: «Что важнее всего в молодости?»

Полученные результаты представлены в виде гистограммы.

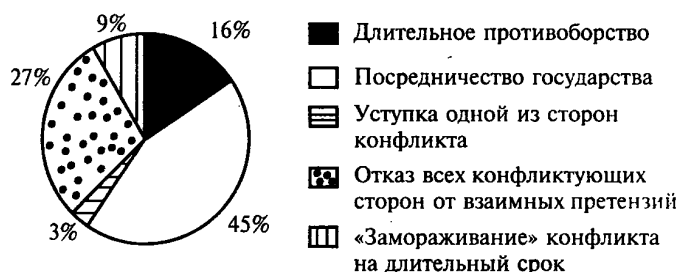


Какой вывод можно сделать на основании данных гистограммы?

- 1) Респонденты в возрасте 18—24 лет считают, что в молодости жизнь в своё удовольствие предпочтительнее, чем создание семьи.
- 2) Респонденты в возрасте 25—39 лет считают, что в молодости в равной степени важно и пожить в своё удовольствие, и сделать карьеру.
- 3) Респонденты в возрасте старше 55 лет считают, что в молодости самое важное — сделать карьеру.
- 4) Респонденты в возрасте 40—54 лет считают, что в молодости создание семьи предпочтительнее, чем карьера.

14. Социологи опросили совершеннолетних жителей города Z. Им задавали вопрос: «Каков, по вашему, наиболее эффективный способ поведения в условиях социального конфликта?».

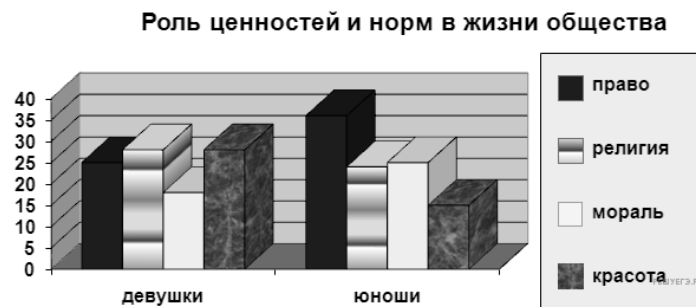
Результаты опроса представлены в графической форме.



Проанализируйте результаты опроса. Какой вывод можно сделать на основе данных диаграммы?

- 1) Более половины опрошенных считают, что посредничество государства необходимо для разрешения конфликта.
- 2) Абсолютное большинство опрошенных не считают уступку эффективным способом поведения в конфликте.
- 3) Больше опрошенных считают эффективным для длительного противоборства в конфликте, чем отказ всех конфликтующих сторон от взаимных претензий.
- 4) Меньше опрошенных считают эффективным «замораживание» конфликта, чем уступку одной из сторон конфликта.

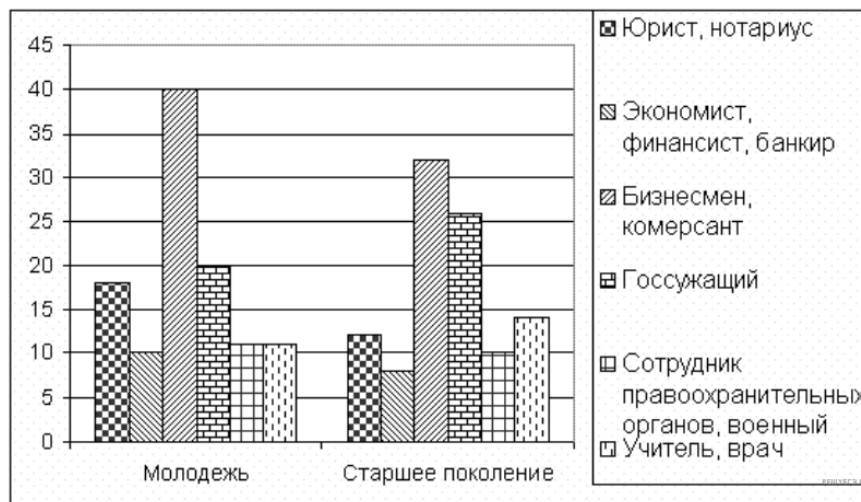
15. В стране Н. проводился опрос среди молодежи. Юношам и девушкам социологи задавали вопрос: «Какие социальные ценности и нормы вы считаете наиболее значимыми в жизни общества?» Результаты опроса (в % от числа опрошенных) представлены в виде диаграммы.



Какие выводы можно сделать на основании информации, приведенной в диаграмме?

1. Девушки, в большей степени, чем юноши, считают правовые нормы значимыми в жизни общества
2. По мнению как юношей, так и девушек, ведущую роль играют в обществе нормы морали
3. Юноши в качестве ведущего типа социальных норм указывают право
4. Для девушек мораль и красота равно значимы в жизни общества

16. В стране А. социологические службы проводили опрос среди граждан двух возрастных групп: молодежи (20–30 лет) и старшего поколения (40–55 лет). Респондентам (гражданам, участвующим в опросе) был задан вопрос: «Какие профессии Вам представляются наиболее престижными?» Результаты опроса (в %) представлены на диаграмме:



Какие выводы можно сделать на основании данной графической информации?

1. Среди профессий, не являющихся престижными, молодое поколение отмечает профессию госслужащего.
2. Представители молодого поколения, в большей степени, чем представители старшего, уважают профессии учителя и врача.
3. И старшее поколение, и молодежь наиболее престижной профессией считают профессию коммерсанта, занятие бизнесом
4. Профессии нотариуса, юриста и адвоката лидируют по степени престижности и у старшего поколения и у молодежи.

17. Социологические службы страны П. проводили на протяжении ряда лет исследование об изменении численности представителей различных конфессий в структуре населения. Опросы населения проводились в 2000–2010 гг. во многих регионах и городах. В результате обработки анкет были получены данные, представленные на диаграмме (в %):

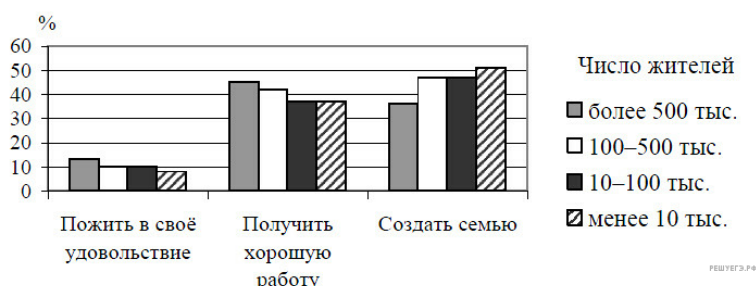


Какие выводы можно сделать на основании приведенных данных?

1. Наибольшими темпами в сравнении с другими конфессиями прирастала численность протестантов
2. Бывшие некогда лидирующей группой населения, православные уступили главенствующие позиции мусульманам
3. Среди растущих в численности конфессий оказались мусульмане и буддисты
4. Численность иудеев не менялась на протяжении исследуемого периода

18. В ходе социологического опроса 2006 г. респондентам, проживающим в населённых пунктах различного типа, предлагалось ответить на вопрос: «Что важнее всего в молодости?»

Полученные результаты представлены в виде гистограммы.

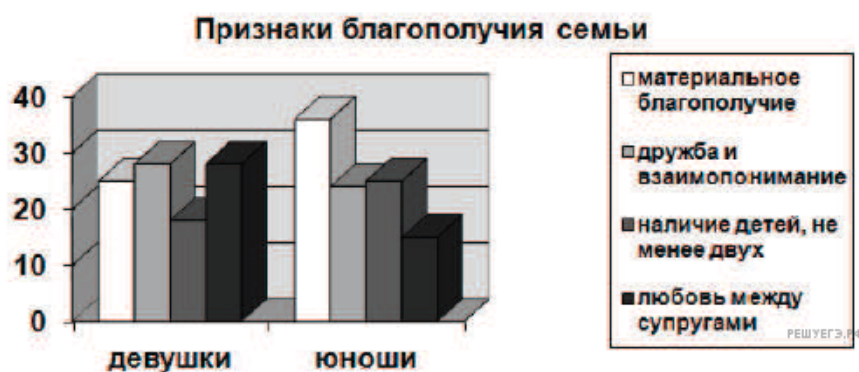


Какой вывод можно сделать на основании гистограммы?

Среди тех, кто считает, что в молодости важнее всего

- 1) пожить в своё удовольствие, преобладают респонденты из пунктов с населением менее 10 тыс. человек
- 2) получить хорошую работу, преобладают респонденты из пунктов с населением 100–500 тыс. человек
- 3) создать семью, преобладают респонденты из пунктов с населением более 500 тыс. человек
- 4) создать семью, в равной мере представлены респонденты из пунктов с населением 10–100 тыс. и 100–500 тыс. человек

19. В стране Н. проводился опрос среди молодежи. Юношам и девушкам социологи задавали вопрос: «Какие признаки семьи Вы считаете необходимыми для семейного благополучия и счастья?» Результаты опроса (в % от числа опрошенных) представлены в виде диаграммы.

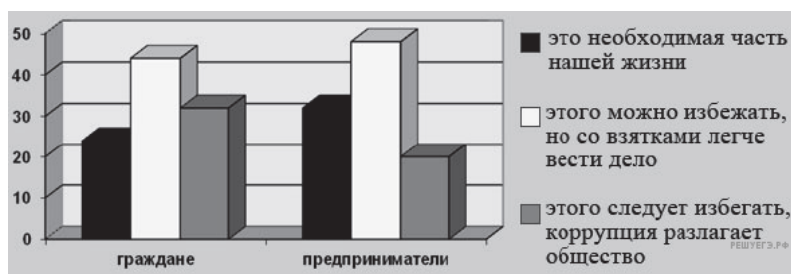


Какие выводы можно сделать на основании информации, приведённой в диаграмме?

- 1) Материальное благополучие считают более значимым признаком юноши, нежели чем девушки.
- 2) Наличие детей юноши и девушки считают в равной мере значимым признаком.
- 3) Юноши в качестве ведущего признака благополучной семьи выделяют супружескую любовь.
- 4) По мнению девушек, в отличие от юношей, дружба и взаимопонимание менее важны, чем материальное благополучие.

20. Социологические службы страны К. провели среди обычных граждан и среди группы предпринимателей опрос для выяснения отношения к коррупции. Респондентам был задан вопрос: «Как Вы относитесь к тому, что в нашей стране для решения своих проблем гражданам приходится нередко давать взятки? Какое из приведённых ниже суждений на этот счёт ближе к Вашей точке зрения?».

Результаты опроса (в %) представлены на диаграмме.

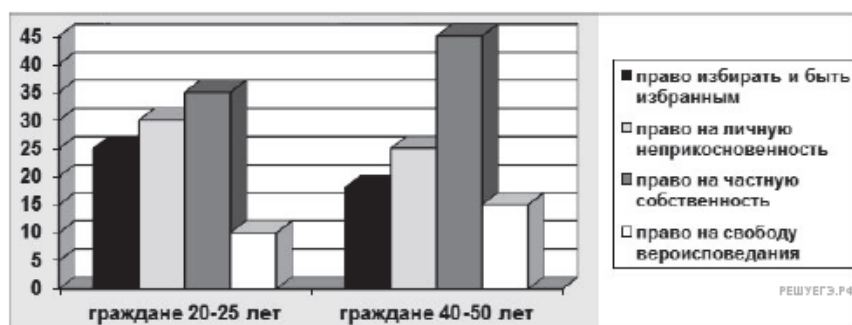


Какой вывод можно сделать на основании данных, представленных на диаграмме?

- 1) И граждане, и предприниматели в равной мере полагают, что взятки затрудняют решение дел.
- 2) Предприниматели в меньшей степени, чем остальные граждане, полагают, что взятки - необходимая часть нашей жизни.
- 3) Можно предположить, что предпринимателям чаще приходится давать взятки, чем простым гражданам.
- 4) Обе категории опрошенных в равной мере положительно оценивают ситуацию с коррупцией.

21. Социологические службы страны Д. провели среди граждан двух возрастных групп (20-25 и 40-50 лет) опрос для выяснения их отношения к гражданским правам. Респондентам был задан вопрос: «Какие права Вы считаете наиболее значимыми для Вас?»

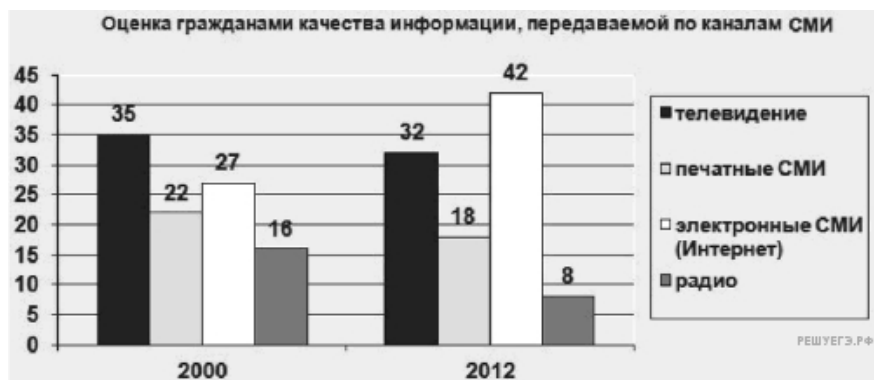
Результаты опроса (в %) представлены на диаграмме:



Какие выводы можно сделать на основании данной графической информации?

- 1) Наиболее значимы для обеих групп права на свободу вероисповедания, свободу совести.
- 2) Наибольшие доли опрошенных в обеих группах в качестве приоритетных прав отметили право на частную собственность.
- 3) Чуть менее половины опрошенных граждан зрелого возраста считают наиболее важным право избирать и быть избранным.
- 4) Граждане не рассматривают в числе значимых для себя право на личную неприкосновенность.

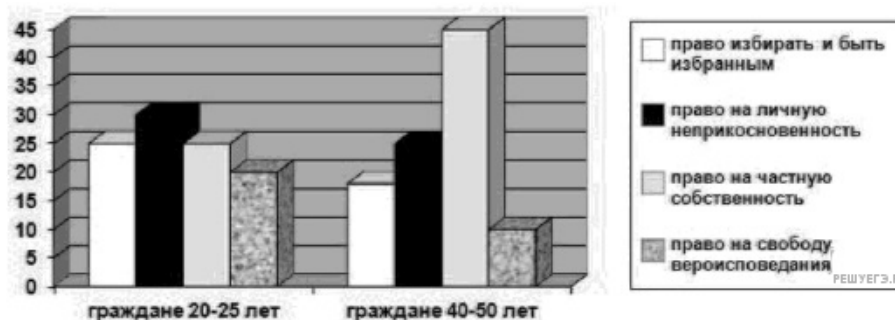
22. Социологические службы страны М. проводили на протяжении ряда лет исследование предпочтений граждан в обращении к материалам СМИ. Гражданам задавался вопрос: «В каких средствах массовой информации информация Вам представляется наиболее качественной и достоверной?». На основании проведенных опросов была составлена диаграмма (в %).



Какие выводы можно сделать на основании данной графической информации?

- 1) Информация телевизионных передач признаётся гражданами, опрошенными в 2012 году, более достоверной, чем информация электронных СМИ.
- 2) Наиболее качественной и достоверной представляется гражданам информация, которая распространяется печатными СМИ.
- 3) Самый высокий процент граждан, опрошенных в 2012 г., считает наиболее достоверной информацию электронных СМИ.
- 4) Участвующие в опросе граждане считают радионовости более популярными и достоверными, чем телевизионные новости.

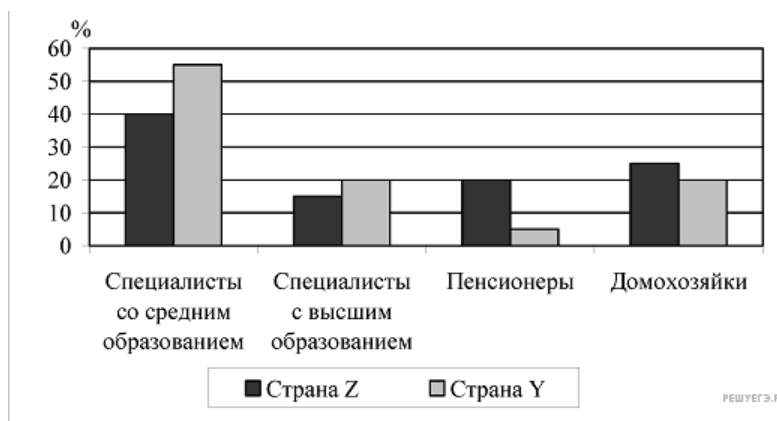
23. Социологические службы страны Д. провели среди граждан двух возрастных групп (20-25 лет и 40-50 лет) опрос для выяснения их отношения к основным правам, закреплённым в Конституции страны. Респондентам был задан вопрос: «Какие права Вы считаете наиболее значимыми для Вас»? Результаты опроса (в %) представлены в диаграмме.



Какие выводы можно сделать на основании приведённых данных?

- 1) Наиболее значимы для обеих групп политические права, люди ценят избирательные права.
- 2) Приоритетным среди прав, отмечаемых молодёжью, признаётся право на свободу вероисповедания.
- 3) Чуть менее половины опрошенных граждан зрелого возраста считают приоритетным право частной собственности.
- 4) Среди наиболее приоритетных прав граждане обеих групп называют право на личную неприкосновенность.

24. В приведённой ниже диаграмме представлены данные о разных категориях населения стран Z и Y, желающих вновь начать учиться.



Какой вывод можно сделать на основании данных диаграммы?

- 1) В стране Z равные доли специалистов с высшим образованием и домохозяек желают вновь начать учиться.
- 2) Специалисты со средним образованием обеих стран занимают лидирующее место среди желающих вновь начать учиться.
- 3) В стране Y среди тех, кто хочет вновь учиться, доля специалистов с высшим образованием выше доли домохозяек.
- 4) В стране Z среди желающих вновь начать учиться преобладают пенсионеры.

25. Международная организация проводила в странах Y и Z опрос совершеннолетних граждан. Им задавали вопрос: «Что, по Вашему мнению, необходимо сделать, чтобы избежать межнациональных конфликтов?». Результаты двух опросов представлены в гистограмме.



Какой вывод можно сделать на основе гистограммы?

- 1) Тех, кто демонстрирует отсутствие интереса к данной проблеме, в стране Y больше, чем в стране Z.
- 2) Большинство опрошенных в каждой из стран считают необходимым отказаться от насилия и принуждения.
- 3) Большинство опрошенных в стране Z считают, что прежде всего необходимо уважать права и свободы.
- 4) Среди тех, кто считает, что необходимо научиться понимать друг друга, больше жителей страны Z, чем страны Y.


26. В Европейский день языков, учреждённый Советом Европы, изучались мнения жителей страны Z о том, необходимо ли современному человеку владение иностранными языками. Полученные данные (в % от числа опрошенных) представлены в графической форме.



Какой вывод можно сделать на основании данных диаграммы?


- 1) Зависимость изучения иностранных языков от рода деятельности наиболее выражена в ответах респондентов в возрасте до 19 лет.
- 2) Признание необходимости владения иностранными языками доминирует среди опрошенных всех возрастных групп.
- 3) Изучение иностранных языков становится всё более популярным занятием среди людей среднего возраста.
- 4) Мнение «достаточно знать свой родной язык» свойственно преимущественно самым молодым из опрошенных.

27. Проанализируйте данные диаграммы, свидетельствующие об экономической стратификации общества в стране Z.



- 1) Доля тех, кто проживает за чертой бедности, сокращается.
- 2) Менее 1/5 населения могут быть отнесены к богатым и высокообеспеченным слоям общества.
- 3) Около 1/3 населения могут быть отнесены к средним слоям общества.
- 4) Доля среднего класса постоянно растёт.

28. В стране Z был дважды проведён опрос общественного мнения по одной и той же проблеме. В 2002 г. предлагалось высказаться о проявлениях в обществе социальной несправедливости. Второй опрос состоялся после проведения в стране реформы избирательной системы и системы налогообложения в 2012 г. Результаты опросов (в % от числа опрошенных) представлены в виде диаграммы.



Какой вывод можно сделать на основе диаграммы?

- 1) Доля тех, кто отмечает, что сохраняется очень большой разрыв в уровне доходов между богатыми и бедными, выросла.
- 2) Доля тех, кто считает, что отдельные социальные группы имеют привилегии, сократилась.
- 3) Доля тех, кто считает, что оппозиционные партии, выражающие интересы неимущих, не представлены в парламенте, осталась неизменной.
- 4) Четверть опрошенных испытали затруднения при опросе.

29. Социологическими службами стран Z и Y был проведён опрос группы граждан. Был задан вопрос: «Удовлетворены ли Вы качеством образования в стране?». Результаты опроса представлены в виде диаграммы.



Какой вывод можно сделать на основе диаграммы?

- 1) В стране Z каждый третий опрошенный признаёт невысокое качество общего образования.
- 2) Наименьшие доли опрошенных обеих стран считают высоким качеством начального образования.
- 3) Наибольшие доли опрошенных обеих стран считают качество образования удовлетворительным.
- 4) Доля людей, удовлетворённых качеством образования, в стране Z больше, чем в стране Y.

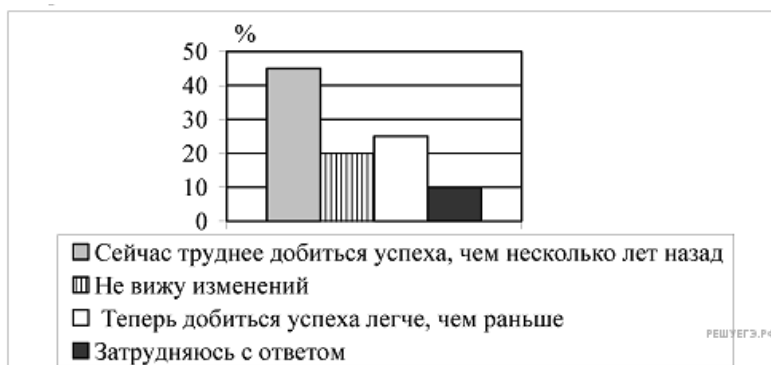
30. Учёные опросили группу 45-летних жителей страны Z. Женщинам и мужчинам задавали вопрос: «Почему снижается воспитательный потенциал семьи?». Результаты опроса представлены в гистограмме.



Проанализируйте данные гистограммы и выберите верное утверждение.

- 1) Женщины в большей степени, чем мужчины, связывают снижение воспитательного потенциала семьи с плохими отношениями между родителями.
- 2) И мужчины, и женщины считают главной причиной снижения воспитательного потенциала семьи увеличение количества неполных семей.
- 3) Одинаковая доля опрошенных мужчин и женщин рассматривают вмешательство родственников в воспитание детей как причину снижения воспитательного потенциала семьи.
- 4) Меньшая доля мужчин, по сравнению с женщинами, указывают в качестве причины снижения воспитательного потенциала семьи отсутствие у родителей необходимых знаний.

31. Центр изучения общественного мнения опубликовал данные опроса «Сложно ли добиться успеха в жизни?». Некоторые из них представлены ниже в виде диаграммы.



Какой вывод можно сделать на основании данных диаграммы?

- 1) Респондентов, считающих, что сейчас легче добиться успеха, больше, чем тех, кто дал иной ответ.
- 2) Подавляющее большинство опрошенных не считают успех жизненной целью.
- 3) Вопрос оказался сложным для четверти отвечавших.
- 4) Пятая часть опрошенных не видят изменений в достижении успеха.

32. Европейский день языков, учреждённый Советом Европы, изучались мнения жителей одной из стран о том, необходимо ли современному человеку владение иностранными языками. Полученные данные (в % от числа опрошенных) представлены в графической форме.

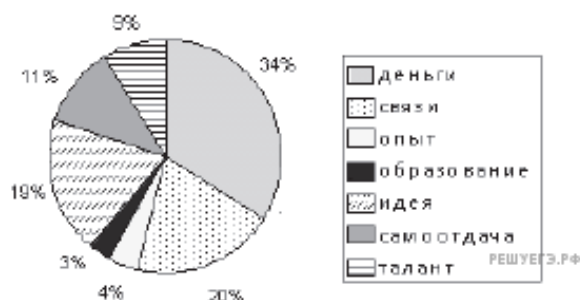


Какой вывод можно сделать на основании данных диаграммы?

- 1) Подавляющее большинство опрошенных мужчин и женщин считают необходимым владение иностранными языками.
- 2) Среди утверждающих, что владение иностранными языками необходимо, мужчин больше, чем женщин.
- 3) Большинство опрошенных ставит изучение иностранных языков в зависимость от рода деятельности.
- 4) Женщины в основном предпочитают знать только свой родной язык.

33. В стране Z в 2011 году проводился социологический опрос. Респондентам задавали вопрос: «Что является самым нужным для успешного начала бизнеса?».

Полученные результаты представлены в диаграмме.

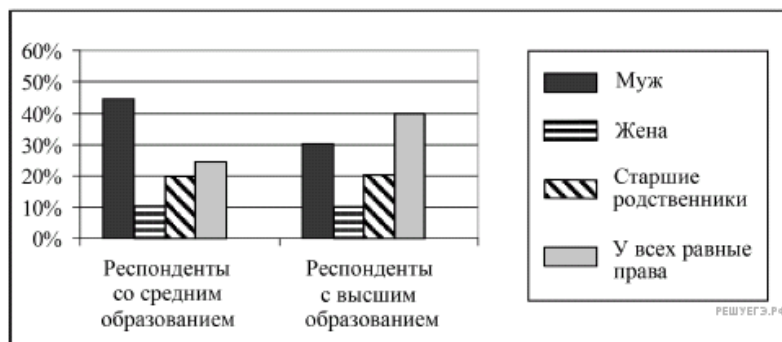


В средствах массовой информации были представлены различные интерпретации данных опроса. Ниже приведены некоторые мнения. Какая из оценок реально соответствует информации, содержащейся в диаграмме?

- 1) Более трети опрошенных самым нужным для начала бизнеса считают наличие денег и связей.
- 2) Половина респондентов уверены, что для успешного бизнеса необходимы образование, опыт работы в данной сфере, полная самоотдача и связи.
- 3) Четверть респондентов уверены, что для начала бизнеса нужны только деньги.
- 4) Большинство опрошенных считает, что, начиная бизнес, нужно иметь новые идеи.

34. В ходе социологического опроса группы 25-летних граждан страны Z респондентам с разным уровнем образования задавали вопрос: «Кто должен быть главой семьи?».

Результаты опроса (в % от числа отвечавших) представлены в диаграмме.



Какой вывод можно сделать на основе диаграммы?

- 1) Доля тех, кто считает, что жена должна быть главой семьи, выше у респондентов с высшим образованием.
- 2) Доля тех, кто считает, что в семье у всех должны быть равные права, выше у респондентов со средним образованием.
- 3) Большинство респондентов со средним образованием считают, что во главе семьи должны быть старшие родственники.
- 4) Мнение, что главой семьи должен быть муж, наиболее часто встречается у респондентов со средним образованием.

35. В ходе социологического опроса, посвящённого вопросам образования, предлагалась такая формулировка одного из пунктов анкеты: «Может ли бесплатное образование быть качественным?». Полученные данные представлены в графической форме (в % от числа отвечавших).

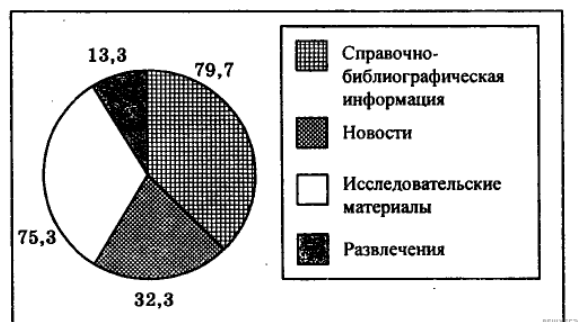


Какой вывод можно сделать на основании данных диаграммы?

- 1) Большинство отвечавших испытали затруднение при ответе на вопрос.
- 2) Среди респондентов преобладают те, кто считает, что плата за образование гарантирует его качество.
- 3) Доля сторонников платного образования превышает долю тех, кто не считает оплату обучения гарантией его качества.
- 4) Пятая доля опрошенных относятся к образованию как к услуге.

36. В последние годы резко возросло число пользователей Интернетом, что вызывает интерес у разработчиков сайтов, тематика которых должна отвечать запросам разных групп населения. В связи с этим в 2002 г. было проведено исследование запросов в сети Интернет ученых-обществоведов.

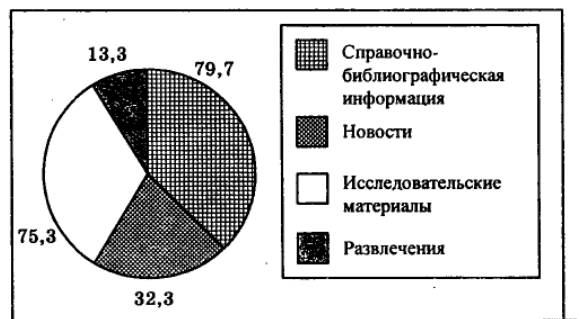
Какой вывод можно сделать на основании данных диаграммы?



- 1) Наибольший интерес у ученых-обществоведов вызывает справочно-библиографическая информация.
- 2) Наименьший интерес у ученых-обществоведов вызывает новостная информация.
- 3) Максимальное количество обращений связано с исследовательскими сайтами.
- 4) Среди интересов ученых-обществоведов сайты, связанные с развлечениями, находятся на третьем месте.

37. В последние годы резко возросло число пользователей Интернетом, что вызывает интерес у разработчиков сайтов, тематика которых должна отвечать запросам разных групп населения. В связи с этим в 2002 г. было проведено исследование запросов в сети Интернет ученых-обществоведов.

Какой вывод можно сделать на основании данных диаграммы?



- 1) Наибольший интерес у ученых-обществоведов вызывает справочно-библиографическая информация.
- 2) Наименьший интерес у ученых-обществоведов вызывает новостная информация.
- 3) Максимальное количество обращений связано с исследовательскими сайтами.
- 4) Среди интересов ученых-обществоведов сайты, связанные с развлечениями, находятся на третьем месте.